

2024 年度

社 会
(1期)

(答はすべて解答用紙に記入すること)

(時 間 45分)

番 号		氏 名	
--------	--	--------	--

清泉女学院中学校

1 歴史分野について、あとの問いに答えなさい。

I.

日本の焼き物の歴史は、縄文土器に始まります。①弥生時代になると、縄文土器よりも薄くてかたい弥生土器がつくられ、様々な用途に使われました。3～4世紀の遺跡として知られる奈良県の纏向遺跡には、各地で作られた土器が発掘されています。纏向遺跡は、(A) を女王とする邪馬台国があった場所の候補として挙げられています。②7世紀後半になると、中国にならって釉薬(注1)をつかった焼き物がつくられるようになりました。奈良時代には、奈良三彩と呼ばれる焼き物がつくられ、③東大寺の正倉院にも納められています。

日本では、中国から運ばれた品々は唐物と呼ばれ、大切にされてきました。平安時代に、(B) が著した『源氏物語』には、中国の焼き物をはじめとする唐物が登場人物の優雅な生活を彩るように登場します。平安時代の末に④平清盛がさかんにした中国との貿易では、大量の銅銭や、焼き物が日本に輸入されました。中国との貿易は、⑤鎌倉幕府にも引き継がれました。そのため、今でも鎌倉の材木座海岸を歩くと、中国の焼き物のかけらが見つかることがあります。

室町時代になり、茶の湯が流行すると、中国から輸入された焼き物が茶器として、もてはやされました。戦国大名の⑥織田信長は、茶の湯を愛好したことで知られています。日本の焼き物の発展には、16世紀末に(C) が2度にわたって朝鮮への出兵を命じたことも関係があります。朝鮮へ渡った大名の中には、朝鮮の焼き物職人を日本に連れてきたものもいました。朝鮮の焼き物の高い技術が日本に伝わったことで、⑦江戸時代には焼き物を特産品にする藩もありました。⑧下の写真の焼き物は、鎖国下において、外国からの注文を受けて作られたものです。日本の焼き物は、ヨーロッパでの評判が高く、明治時代になっても輸出されました。



VOCの文字が見える。
連合東インド会社のマーク

『明解 歴史総合図説シンフォニア改訂版』(帝国書院)より作成

(注1) 釉薬：うわぐすり。素焼きの陶磁器の表面にかけるガラス質の溶液。

問1. (A) ~ (C) にあてはまる人名を答えなさい。

問2. 下線部①について、弥生時代の人びとの生活に関して書かれた次の文 a・b の正誤の組合せとして正しいものを、下のア～エの中から選び、記号で答えなさい。

- a. 堀やさくで囲まれた環濠集落で生活していた。
b. 祭りの道具として、銅鐸が使われた。

- ア. a - 正 b - 正 イ. a - 正 b - 誤
ウ. a - 誤 b - 正 エ. a - 誤 b - 誤

問3. 下線部②について、7世紀後半のできごととして正しいものを、次のア～エの中から1つ選び、記号で答えなさい。

- ア. 聖徳太子は遣唐使を派遣し、進んだ中国の文化や制度を取り入れようとした。
イ. 中大兄皇子と中臣鎌足らは、十七条の憲法を制定し新しい国づくりを始めた。
ウ. 日本で最初の本格的な都である藤原京が、現在の奈良県につくられた。
エ. 鑑真が来日し、正式な仏教を伝えた。

問4. 下線部③について、東大寺の正倉院について知っていることを説明しなさい。

問5. 下線部④について、平氏一門があつく敬い援助したことで発展し、現在世界遺産に登録されている寺社はどれですか。次のア～エの中から1つ選び、記号で答えなさい。

- ア. 中尊寺 イ. 巖島神社 ウ. 法隆寺 エ. 宗像大社

問6. 下線部⑤について、鎌倉時代に関して書かれた文として正しいものを、次のア～エの中から1つ選び、記号で答えなさい。

- ア. 侍所が京都に設置され、京都の警備や朝廷の監視^{かんし}を行った。
- イ. 北条時宗は、武士の裁判の基準となる御成敗式目を制定した。
- ウ. 御家人は、将軍からの奉公に対して、幕府のために戦った。
- エ. 幕府は、元軍の襲来^{しゅうらい}に備えて、博多湾に防塁^{ぼうるい}を築くことを命じた。

問7. 下線部⑥について、織田信長に関して書かれた文として正しいものを、次のア～エの中から1つ選び、記号で答えなさい。

- ア. 博多を直接支配して、豊富な軍資金を手に入れた。
- イ. 長篠の戦いで効果的に鉄砲を使って、今川氏を破った。
- ウ. 将軍の足利氏を京都から追放して、室町幕府をほろぼした。
- エ. 関所の設置や市場の税^{ちやうしやう}を徴収することで収入を増やそうとした。

問8. 下線部⑦について、江戸時代に関する次の問いに答えなさい。

(1) この時代に起きた次のX～Zを古いものから順に並べたとき、並び方として正しいものを、下のア～カの中から選び、記号で答えなさい。

- X. 天草四郎を中心にして、島原・天草一揆がおこった。
- Y. 平戸の外国商館を長崎の出島に移した。
- Z. 幕府がキリスト教を禁止した。

- ア. X→Y→Z イ. X→Z→Y ウ. Y→X→Z
- エ. Y→Z→X オ. Z→X→Y カ. Z→Y→X

(2) 『古事記伝』を著し、国学を大成した人物の名前を答えなさい。

問9. 下線部⑧について、この焼き物は、鎖国下の日本において、貿易関係のあった国の会社から注文を受けてつくられたものです。その国として正しいものを、次のア～エの中から1つ選び、記号で答えなさい。

- ア. イギリス イ. オランダ ウ. フランス エ. インド

II.

問10. 次の年表と資料を見て、あとの問いに答えなさい。

年	できごと
1853	ペリーが現在の神奈川県 <small>（あ）</small> に来航する
1858	アメリカと <small>（い）</small> 条約を締結する
1868	五箇条 <small>ごかじょう</small> の御誓文 <small>ごせいもん</small> が発表される
1871	岩倉使節団が外国をおとずれる
1889	大日本帝国憲法が公布される

資料A

第3条 下田・函館以外に次の場所を開く。

神奈川（横浜）・（う）・新潟・兵庫（神戸）

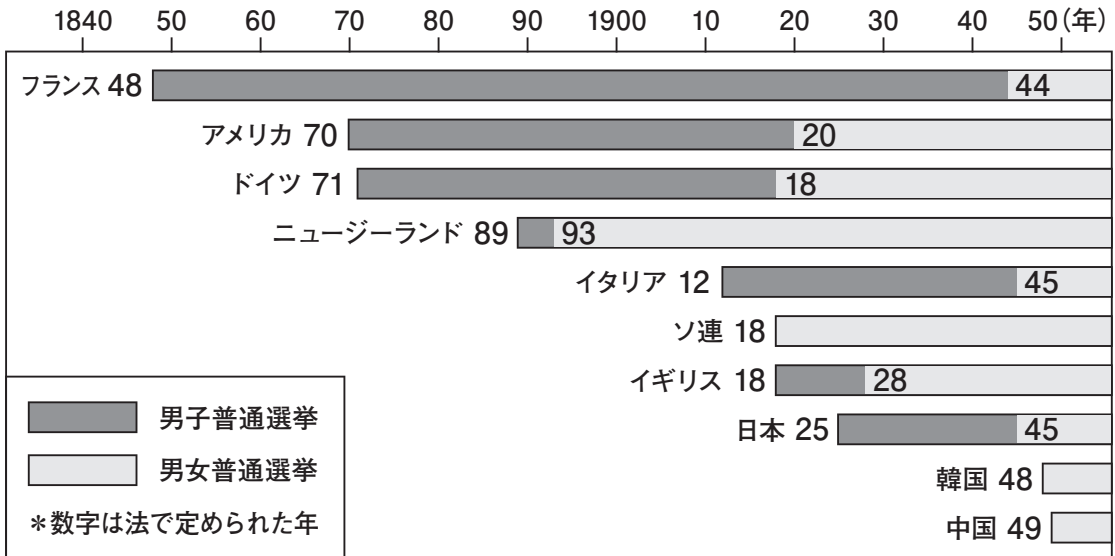
第4条 日本に輸出入されるすべての品物は、別冊の通り、日本の役所に①税を納めること。（別冊）この税は日米が協定して決めること。

第6条 日本人に対して罪を犯したアメリカ人は、アメリカ領事裁判所で取り調べの上、アメリカの法律によって罰ばつすること。

『つながる歴史』（浜島書店）より作成

- (1) （あ）・（い）にあてはまる言葉を答えなさい。
- (2) 資料Aは （い）の内容を示しています。（う）にあてはまる地名を答えなさい。
- (3) 資料Aの下線部①について、この税を何というか答えなさい。
- (4) 1868年から1889年の間に起こったできごととして正しくないものを、次のア～エの中から1つ選び、記号で答えなさい。
 - ア. 藩はいを廃して県を置いた。
 - イ. 群馬ぐんま県の富岡とみおかに官営の製糸場けんじょうがつけられた。
 - ウ. 徴兵令ちゆうへいれいが定められた。
 - エ. 第1回帝国議会在開された。

問11. 次のグラフは各国において普通選挙が定められた年を示したものです。グラフについて説明したあとの文 a・b の正誤の組合せとして正しいものを、下のア～エの中から選び、記号で答えなさい。



『明解 歴史総合図説シンフォニア改訂版』(帝国書院)より作成

- a. 最も早く女性の普通選挙が定められた国は、ヨーロッパの国である。
 b. 1950年までにはグラフの全ての国で男女普通選挙が定められている。

- ア. a - 正 b - 正 イ. a - 正 b - 誤
 ウ. a - 誤 b - 正 エ. a - 誤 b - 誤

問12. 次の文章は、雑誌『青鞥』の発刊(1911年)に際して平塚らいてうにより書かれたものです。文中の(え)・(お)にあてはまる言葉の組合せとして正しいものを、下のア～カの中から選び、記号で答えなさい。

元始、女性は実に(え)であった。真正の人であった。今、女性は(お)である。他に依って生き、他の光によって輝く、病人のような蒼白い顔の(お)である。

- ア. え - 月 お - 星 イ. え - 月 お - 太陽
 ウ. え - 星 お - 太陽 エ. え - 星 お - 月
 オ. え - 太陽 お - 星 カ. え - 太陽 お - 月

問13. 現在、9月1日は「防災の日」と定められています。その由来となった1923年に起きた災害は何とよばれていますか、答えなさい。

問14. 第二次世界大戦中に起きた次のX～Zを古いものから順に並べたとき、並び方として正しいものを、下のア～カの中から選び、記号で答えなさい。

X. アメリカ軍の沖縄本島上陸

Y. ソ連の対日参戦

Z. ミッドウェー海戦の敗北

ア. $X \rightarrow Y \rightarrow Z$ イ. $X \rightarrow Z \rightarrow Y$ ウ. $Y \rightarrow X \rightarrow Z$

エ. $Y \rightarrow Z \rightarrow X$ オ. $Z \rightarrow X \rightarrow Y$ カ. $Z \rightarrow Y \rightarrow X$

問15. 第二次世界大戦後の日本のできごととして正しくないものを、次のア～エの中から1つ選び、記号で答えなさい。

ア. 三井、^{みつびし}三菱などの財閥が解体された。

イ. 20歳以上の男女に選挙権が平等に与えられた。

ウ. 6・3制の義務教育が始まった。

エ. 国際連合への加盟が認められ、安全保障理事会の常任理事国となった。

問16. 次の写真は、1954年11月に封切られた映画のポスターです。この映画は、1954年3月に起きたできごとをヒントとして企画きかくされました。そのできごとは何ですか、下のア～エの中から1つ選び、記号で答えなさい。

著作権の関係上、省略
映画『ゴジラ』のポスター

『昭和 二万日の全記録 第10巻』(講談社)

- ア. 米軍が沖縄の基地きょてんを拠点にして、ベトナムへの空爆くうばくを始めた。
- イ. 北朝鮮が南進して、朝鮮戦争が始まった。
- ウ. ビキニ環礁かんしょうにおける水爆実験で、第五福竜丸が被ばくひした。
- エ. キューバにおいてミサイル基地の建設が進み、核戦争の危機がおこった。

2 地理分野について、あとの問いに答えなさい。

神奈川県は人口が、(A) 万人に達しています。これは高知県の人口が (B) 万人なので、およそ14倍です (2022年)。神奈川県は、関東平野に位置しているため広い平野部が見られ、台地や低地につくられた住宅地に人々がくらしています。高知県は、山がちな地形が続くため、沿岸部の低地や谷の中のせまい平地に人口が集中しています。

高知県の主な産業は、農業や水産業です。ビニルハウスを利用した野菜の生産が知られており、(C) や (D) の生産量が多いです。(C) は、全国1位の生産量 (2021年産) で、熊本県や群馬県が続きます。(D) は、全国4位の生産量 (2021年産) で、高知県よりも茨城県や宮崎県の生産量が多いです。水産業は、(E) の水揚げ量が多いことで知られており、ワラを燃やした強い炎で身をあぶった「(E) のたたき」は、観光客に人気の料理です。

高知市の姉妹都市は、北海道北見市やアメリカ合衆国カリフォルニア州フレズノ市です。また、横浜市姉妹都市のひとつは、同じアメリカ合衆国カリフォルニア州サンディエゴ市です。①日本はアメリカ合衆国とほかの分野でも強く結びついています。

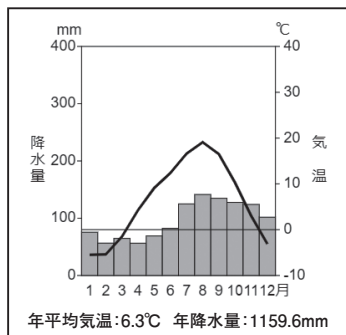
問1. (A) と (B) には、神奈川県と高知県の人口 (2022年・万人) が入ります。数字の組合せとして正しいものを、次のア～エの中から選び、記号で答えなさい。

	ア	イ	ウ	エ
神奈川県	923	1,404	923	1,404
高知県	68	68	55	55

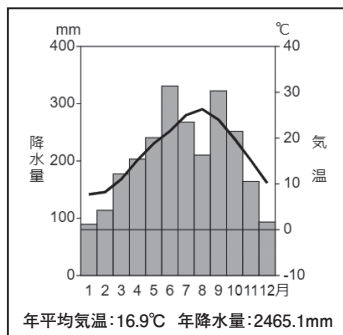
『日本国勢図会 2022/23』より作成

問2. (C) ～ (E) にあてはまる言葉を答えなさい。

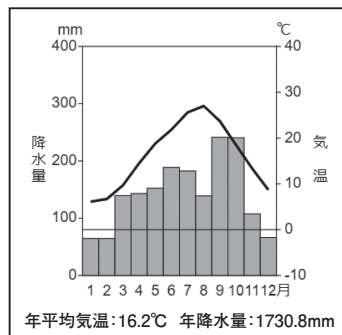
問3. 次の雨温図A～Cは、神奈川県、高知県、北海道にある代表的な観測点の月別の降水量（棒グラフ）と平均気温（折れ線グラフ）を表しています。あとの問いに答えなさい。



A



B



C

(1) 雨温図A～Cと、観測点がある道県名との組合せとして正しいものを、次のア～カの中から選び、記号で答えなさい。

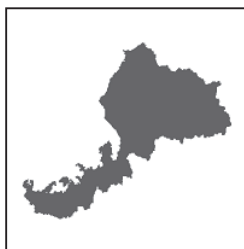
	ア	イ	ウ	エ	オ	カ
神奈川県	A	A	B	B	C	C
高知県	B	C	A	C	A	B
北海道	C	B	C	A	B	A

(2) (1) の答えを選んだ理由を、高知県の雨温図と、ほかの道県の雨温図とのちがいが明らかになるように説明しなさい。

問4. 次の地図A～Dは、徳島県、福井県、福岡県、山形県のいずれかを表しています。A～Dの各県の説明として正しいものを、あとのア～エの中からそれぞれ選び、記号で答えなさい。



A



B



C



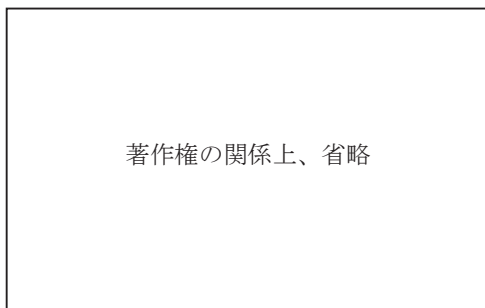
D

- ア. 高知県に源流をもつ吉野川の下流に位置する県。
- イ. 政令指定都市がある県。
- ウ. 日本海側にあり、米やさくらんぼ、西洋なしの生産がさかんな県。
- エ. 若狭湾に面しており、関西地方へ多くの電力を供給している県。

問5. 高知県と日本標準時子午線の位置関係について書かれた文として正しいものを、次のア～エの中から1つ選び、記号で答えなさい。

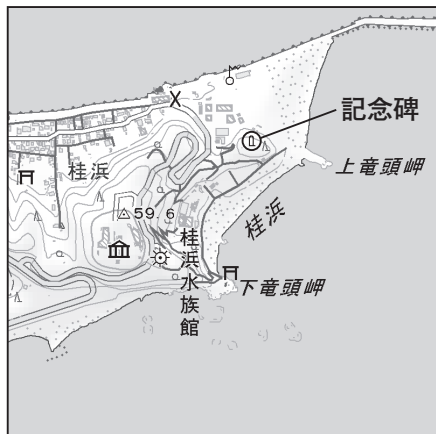
- ア. 高知県の東沖から、和歌山県までの海上を通る。
- イ. 高知県内の東部にある安芸市^{あき}付近を通る。
- ウ. 高知県内の西部にある四万十市^{しまんと}付近を通る。
- エ. 高知県の西沖から、宮崎県までの海上を通る。

問6. 次の2つの写真の施設^{しきつ}は、共通の目的で高知県と神奈川県^{しずおか}の海岸につくられました。共通の目的とは何ですか、説明しなさい。



写真左 ココハレ(高知新聞社)「海の駅 東洋町」
写真右 神奈川県立湘南海岸公園 園内マップ

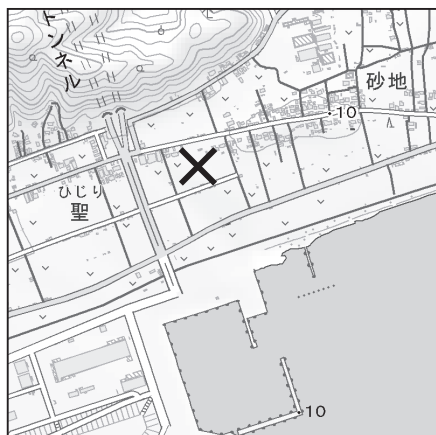
問7. 次の地形図A～Dは、高知県内の一部の地域の地形図です。あとの問いに答えなさい。



地形図A



地形図B



地形図C



地形図D

電子地形図25000『高知』, 『土佐長浜』より作成

(1) 地形図Aの記念碑きねんびの記号があるところには、幕末に活躍した人物の像が建てられています。この人物は誰か、次のア～エの中から選び、記号で答えなさい。

- ア. 西郷隆盛 イ. 坂本龍馬 ウ. 福沢諭吉 エ. 伊能忠敬

(2) 地形図B, C, Dについて, 図中の×印がついているところの標高を, 高い順に並べたとき, 並び方として正しいものを, 次のア~エの中から選び, 記号で答えなさい。なお等高線は, 標高10mごとに引かれています。

- ア. B→C→D イ. B→D→C
 ウ. D→B→C エ. D→C→B

(3) 地形図A~Dから読み取ることができる内容として正しくないものを, 次のア~エの中から1つ選び, 記号で答えなさい。

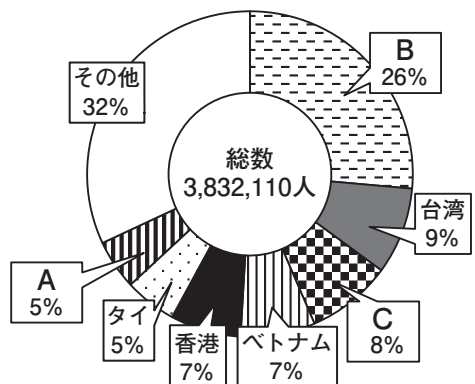
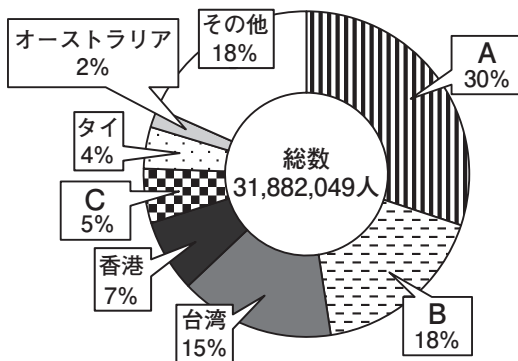
- ア. 地形図Aには, 神社の記号が2つある。
 イ. 地形図Bには, 住宅地が広がっている。
 ウ. 地形図Cには, 海岸線に沿って水田が広がっている。
 エ. 地形図Dには, 山の斜面に果樹園しやめんの記号がみられる。

問8. 下線部①について, あとの問いに答えなさい。

(1) 次の2つの円グラフは, 海外から日本へ入国する人びとの総数と割合をくらべたものです。A~Cには, アメリカ合衆国, 韓国, 中国のいずれかがあてはまります。A~Cと, 国名との組合せとして正しいものを, 下のア~カの中から選び, 記号で答えなさい。

日本への入国者の多い国・地域 (2019年)

日本への入国者の多い国・地域 (2022年)



日本政府観光局ホームページより作成
 ※円グラフの合計は100%になりません。

	ア	イ	ウ	エ	オ	カ
アメリカ	A	A	B	B	C	C
韓国	B	C	A	C	A	B
中国	C	B	C	A	B	A

(2) 次の表は、日本とアメリカ合衆国との貿易についてまとめたものです。この表について書かれたあとの文 a～dのうち、正しい文の組合せを、下のア～エの中から選び、記号で答えなさい。

表 日本とアメリカ合衆国の貿易（2020年）

アメリカ合衆国への輸出			アメリカ合衆国からの輸入		
	百万円	%		百万円	%
機械類	4,644,473	36.8	機械類	1,923,701	25.8
自動車	3,466,572	27.5	医薬品	564,645	7.6
自動車部品	699,260	5.5	肉類	409,594	5.5
科学光学機器	301,656	2.4	科学光学機器	396,975	5.3
航空機部品	280,153	2.2	液化石油ガス	288,686	3.9
医薬品	268,697	2.1	航空機類	266,258	3.6
金属製品	205,833	1.6	有機化合物	263,537	3.5
プラスチック	165,077	1.3	とうもろこし	224,556	3.0
その他	2,579,103	20.6	その他	3,115,605	41.8
合計	12,610,824	100	合計	7,453,557	100

『日本国勢図会 2022/23』より作成

- a. 日本がアメリカから輸入する医薬品の金額は、日本がアメリカへ輸出する医薬品の金額の3分の1を下回る。
- b. 日本は、アメリカから工業製品だけでなく、食料や飼料となる農畜産物を輸入している。
- c. 日本は、アメリカへ自動車部品を輸出していて、アメリカ国内の自動車工場で組み立てられて完成品となり、そのほとんどを日本が輸入している。
- d. 日本は、アメリカへ航空機部品を輸出していて、アメリカ国内の航空機工場で組み立てられて完成品となり、その一部を日本が輸入している。

ア. aとc イ. bとc ウ. aとd エ. bとd

3 公民分野について、あとの問いに答えなさい。

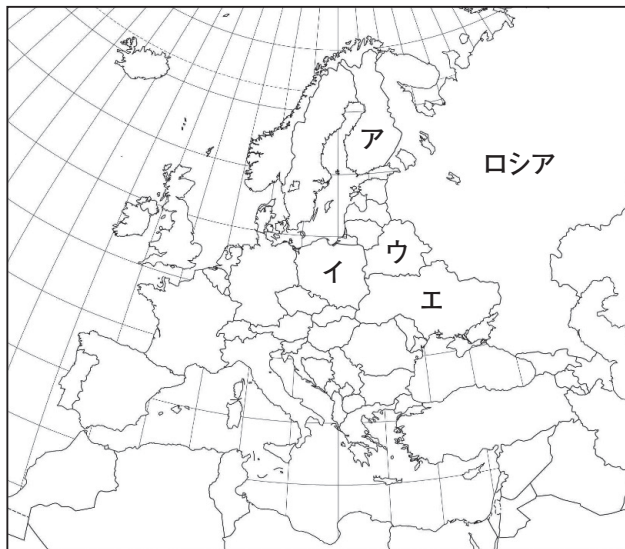
2022年2月、ロシアが①ウクライナに攻撃をはじめました。②ロシアの（ A ）大統領は、核兵器による威かくも行っています。

核兵器は、日本に投下され、③広島と長崎で多くの人びとが犠牲となりました。被爆地の1つである④広島には、2016年にアメリカ合衆国の現職の大統領が初めて訪れ、平和記念資料館などを見学しました。

核兵器は、第二次世界大戦後も世界の国々でつくられてきました。日本の身近な国である⑤中国をはじめ、⑥核保有国はいくつもあり、いまだに世界には多くの核兵器が存在しています。2021年1月には、核兵器をなくしていくために（ B ）条約が発効されましたが、核保有国や日本をふくめ、この条約を結んでいない国も多くあります。⑦日本は、核兵器による⑧世界でただ一つの被爆国として、どのような行動をとるべきかを考えていく必要があります。

問1. （ A ）・（ B ）にあてはまる言葉を答えなさい。

問2. 下線部①について、ウクライナは次の地図中のどこですか。ア～エの中から選び、記号で答えなさい。



問3. 下線部②について、現在、日本とロシアとの間で解決していない領土問題に関する島を、次のア～エの中から1つ選び、記号で答えなさい。

ア. 尖閣諸島 イ. 色丹島 ウ. 竹島 エ. 対馬

問4. 下線部③について、次の問いに答えなさい。

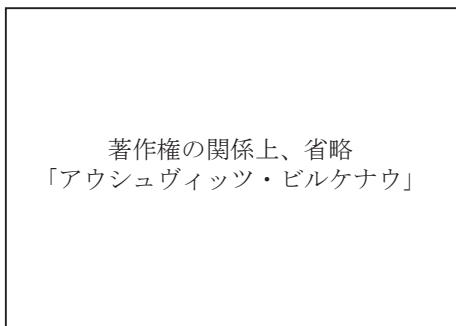
(1) 核兵器の恐怖^{きょうふ}を伝える世界遺産を、次のア～エの中から1つ選び、記号で答えなさい。



ア



イ



ウ



エ

『きほんを学ぶ 世界遺産100』(マイナビ出版), 朝日新聞DIGITAL

(2) 2023年5月、広島に主要国の代表が集まり、開かれた会議の名前を答えなさい。

問5. 下線部④について、この大統領の名前を次のア～エの中から選び、記号で答えなさい。

ア. ジョー・バイデン イ. ドナルド・トランプ
ウ. バラク・オバマ エ. ジョージ・ブッシュ

問6. 下線部⑤について、中国に関する文として正しくないものを、次のア～エの中から1つ選び、記号で答えなさい。

- ア. 国内に50以上もの民族がおり、人口は10億人をこえる。
- イ. サンフランシスコ平和条約が結ばれ、日本との国交が正常化した。
- ウ. 税金や貿易などで優遇される経済特区には、外国の企業が多くある。
- エ. 「一人っ子政策」を行っていたことで、少子高齢化が進んだ。

問7. 下線部⑥について、核保有国を次のア～エの中から1つ選び、記号で答えなさい。

- ア. オーストラリア
- イ. ブラジル
- ウ. 韓国
- エ. インド

問8. 下線部⑦について、日本に関する次の問いに答えなさい。

(1) 日本国憲法について書かれた次の文 a・b の正誤の組合せとして正しいものを、下のア～エの中から選び、記号で答えなさい。

- a. 基本的人権の尊重をはじめとする、3つの原則が定められている。
- b. 勤労の義務、納税の義務、普通教育を受けさせる義務が定められている。

- ア. a - 正 b - 正 イ. a - 正 b - 誤
- ウ. a - 誤 b - 正 エ. a - 誤 b - 誤

(2) 国会の役割について説明した文として正しくないものを、次のア～エの中から1つ選び、記号で答えなさい。

- ア. 内閣で作成された予算案を議決する。
- イ. 唯一の立法機関として法律を制定する。
- ウ. 外国との約束である条約を承認する。
- エ. 最高裁判所の長官を指名する。

問9. 下線部⑧について、日本が打ち出している非核三原則を、解答欄に合うように答えなさい。

問10. 核兵器は一瞬にして多くの命をうばう恐ろしい兵器です。それだけでなく、核兵器の使用はどのような脅威をもたらしますか。その脅威について、2つ説明しなさい。

前ページで問題は終わりです。

