

2023 年度

社 会  
(1期)

(答はすべて解答用紙に記入すること)

(時 間 45分)

番 号		氏 名	
--------	--	--------	--

清泉女学院中学校



問題は、次のページからはじまります。

# 1 歴史分野について、次の問いに答えなさい。

問1. 次の写真は、青森県の遺跡から発掘されたものです。これは、何と呼ばれるものですか、ひらがなで答えなさい。

著作権の関係上、省略  
「風張1遺跡 国宝 合掌土偶」

『新しい社会6』(東京書籍)

問2. 卑弥呼が生きた時代について書かれた次の文A～Dの中で、正しいものの組合せを、下のア～エの中から選び、記号で答えなさい。

- A. 人々は石器を使用し、狩りや、木の実などの採集を中心とする生活をしていた。
- B. 人々は鉄器や青銅器を使用し、麻や絹の布を織り、米づくりを行っていた。
- C. 稲荷山古墳から出土した鉄剣により、邪馬台国の勢力は、関東にまでひろがっていたことがわかる。
- D. 中国の歴史書により、卑弥呼は魏に使いを送り、中国の皇帝から倭王の称号を<sup>あた</sup>与えられていたことがわかる。

ア. AとC      イ. AとD      ウ. BとC      エ. BとD

問3. 次の年表をみて、あとの問いに答えなさい。

710年	①平城京に都がうつされる。
794年	平安京に都がうつされる。 (ア)
894年	遣唐使が中止される。 (イ)
1053年	平等院 <sup>ほうおう</sup> 鳳凰堂が建てられる。 (ウ)
1185年	壇ノ浦の戦いで平氏がほろびる。

- (1) 下線部①について、伝染病やききん、政権争いのたえなかった奈良時代に、聖武天皇は、仏教の力で国を守ろうとしました。聖武天皇が、国ごとに建てるように命じた寺院のことを何といいますか、答えなさい。
- (2) 『枕草子』や『源氏物語』が書かれた時期として正しいものを、年表のア～ウの中から選び、記号で答えなさい。

問4. 平安時代の朝廷の年中行事の中には、今に伝わるものがあります。「<sup>しゅうかく</sup>収穫を感謝する儀式」は、どのような形になっていますか。次のア～エの中から1つ選び、記号で答えなさい。

ア. 七草粥<sup>がゆ</sup>を食べる

イ. 端午<sup>たんご</sup>の節句を祝う

ウ. 送り火を焚く

エ. 勤労感謝の日として過ごす

問5. 鎌倉時代にあったX～Zのできごとを、時代の古いものから順に並べたとき、並び方として正しいものを、下のア～カの中から選び、記号で答えなさい。

X. 幕府は、承久<sup>じょうきゅう</sup>の乱で朝廷と戦い、勝利をおさめた。

Y. 幕府は、御家人たちを九州に集めて、元の大軍と戦った。

Z. 武士の裁判の基準となる御成敗式目がつくられた。

ア. X→Y→Z

イ. X→Z→Y

ウ. Y→X→Z

エ. Y→Z→X

オ. Z→X→Y

カ. Z→Y→X

問6. 次の絵を見て，あとの問いに答えなさい。

著作権の許諾期間が過ぎたため、  
図を省略いたします。

『小学社会6』(教育出版)より作成

(1) 絵に関連して書かれた次の文ア～エの中から，正しくないものを1つ選び，記号で答えなさい。

- ア. この絵は，南蛮屏風と呼ばれる。南蛮とは，スペインとポルトガルのことをさす言葉であった。
- イ. 絵の右下にはキリスト教の宣教師がえがかれ，絵の右上には南蛮寺という仏教の寺院がえがかれている。
- ウ. 積み荷の中には，日本には珍しい動物があり，黒人が運んでいる様子がわかる。
- エ. 南蛮船は，中国の生糸や絹織物を日本に運び，日本からは，主に銀を持ち帰ったことが知られている。

(2) のちに南蛮船の来航を禁止する命令を出した人物を、次のア～エの中から選び、記号で答えなさい。

ア. 織田信長      イ. 豊臣秀吉      ウ. 徳川家康      エ. 徳川家光

問7. 江戸に関連する次の問いに答えなさい。

(1) 江戸時代、江戸にはたくさんの大名やしきが置かれていました。何のためですか、説明しなさい。

(2) 1868年、江戸の薩摩藩のやしきで、西郷隆盛と勝海舟の会談が行われました。その会談の主な内容について、正しいものを次のア～エの中から1つ選び、記号で答えなさい。

ア. 大政奉還の申し出      イ. 王政復古の伝達  
ウ. 江戸城の明けわたし      エ. 版籍奉還の命令



問8. 次の史料1～3は、岩倉使節団の滞在記にあたる『米欧回覧実記』の一部分です。各史料は、それぞれ滞在した国ごとに見聞きした内容が書かれています。史料を読み、あとの問いに答えなさい。

### 史料1

( A ) は海に囲まれた島国であるので国防の重点は主に海軍にある。(中略)

( A ) の富は石炭と鉄により機械を動かして綿、羊毛、麻を紡織するのが主軸となっている。原料となる羊毛は遠くオーストラリアから、綿花はアメリカ諸国から、麻はインドから、亜麻はロシアから輸入する。

( A ) は商業国である。国をあげて世界貿易に集中している。それ故、五大洋に船舶を行き来させ、各国の産物を買って自国に輸送し、鉄や石炭の力を借りて工業製品に加工しては再び各国に輸出し、売却する。

### 史料2

カリフォルニアは新たに東洋との交易の門を開き、サンフランシスコは急激に繁盛しつつあるが、州内の各地は依然として未開のままである。そこから東に進んでネヴァダ、ユタの広漠たる地では鉄道、鉱山のそばにわずかな村落があるばかりだ。さらにロッキーを越え、大草原(プレーリー)の荒れ野に至るまではコロンブスやアメリカゴ(ヴェスプッチ)が初めて足を踏み入れた当時と変わらない様子であり…(中略)

( B ) はアメリカ合衆国三十六州の首府であって独立行政区となっており、その全体を総称して「コロンビア特別区」という。(中略)

そもそもこの特別区に連合政府を置くまでは定まった首都というものもなく、最初に十三州が( A ) 支配を拒絶して独立し、連合政府を樹立した時には議論百出、政府の土地などということとはもとより、経費の調達なども現在とは違い、各州から租税費用を徴収する権利なども全くなかった。

### 史料3 ビスマルクの演説

近年、世界各国はいずれも親睦<sup>しんぼく</sup>、礼儀<sup>れいぎ</sup>を守って交際しているとは言え、これは全く表面上の体裁であって、その裏にまわって見れば、強弱が争い合い、大国小国が侮蔑<sup>ぶべつ</sup>\*1し合うのが実情である。(中略)

いわゆる国際公法\*2などというものは各国の権利を保証する典拠<sup>てんきよ</sup>\*3と言いながら、いざ大国が利益を争う段になると、自分に有利ならば公法に従って曲げたりしないものの、不利な場合には武力を盾<sup>たて</sup>にひっくり返し、いかなる時にも法に従う精神など全くない。(中略)

聞くところによれば、( A )、フランスなどの諸国は海外に植民地<sup>むきぼ</sup>を貪り求め、物産<sup>ぶつさん</sup>を搾取<sup>さくしゆ</sup>\*4し、ほしいままに権力を振るって、その為<sup>な</sup>すところに多くの国々が苦しんでいると言う。(中略) 諸君らも心中振り返って懸念<sup>けんねん</sup>\*5を払<sup>はら</sup>うことはできないであろう。(中略)

故に、日本には親睦な付き合いの国々も多くあるだろうが、その中でも、国権自主を重んじるドイツなどは親善国の中の親善国であるだろうと言えるのである。

久米邦武編、大久保喬樹訳注『米欧回覧実記』(KADOKAWA)2018年より作成

- \* 1 あなどり見さげること。けいべつ。
- \* 2 国際社会の法。
- \* 3 正しい根拠。
- \* 4 しばりとること。
- \* 5 気にかかって不安に思うこと。

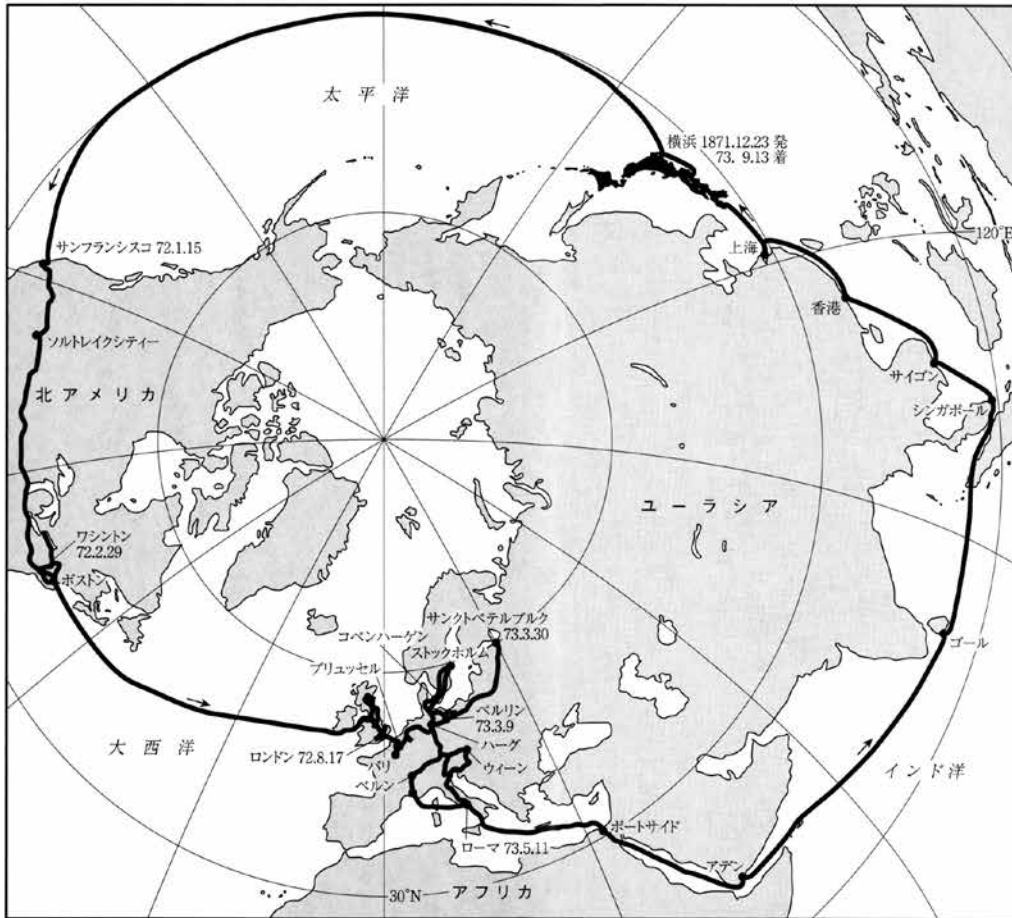
(1) 文中の ( A )・( B ) にあてはまる国名・地名を答えなさい。

(2) 史料に書かれている内容として正しくないものを次のア～エの中から1つ選び、記号で答えなさい。

- ア. ( A ) の国は、工業原料を輸入し、工業製品を輸出している。
- イ. アメリカ国内では、鉄道が使われている。
- ウ. アジアでは大国も小国も、国際公法を必ず守っている。
- エ. ヨーロッパの国の中には、植民地において現地の人たちを苦しめている国がある。

(3) 下の地図を参考に、史料1～3を岩倉使節団の移動した順に正しく並びかえたものを、次のア～カの中から選び、記号で答えなさい。

- ア. 史料1→史料2→史料3      イ. 史料1→史料3→史料2  
 ウ. 史料2→史料1→史料3      エ. 史料2→史料3→史料1  
 オ. 史料3→史料1→史料2      カ. 史料3→史料2→史料1



岩倉使節団経路図

— 経路  
 (日付は着、年月日はすべて陽暦)

田中彰『明治維新と西洋文明』(岩波書店)2003年より作成

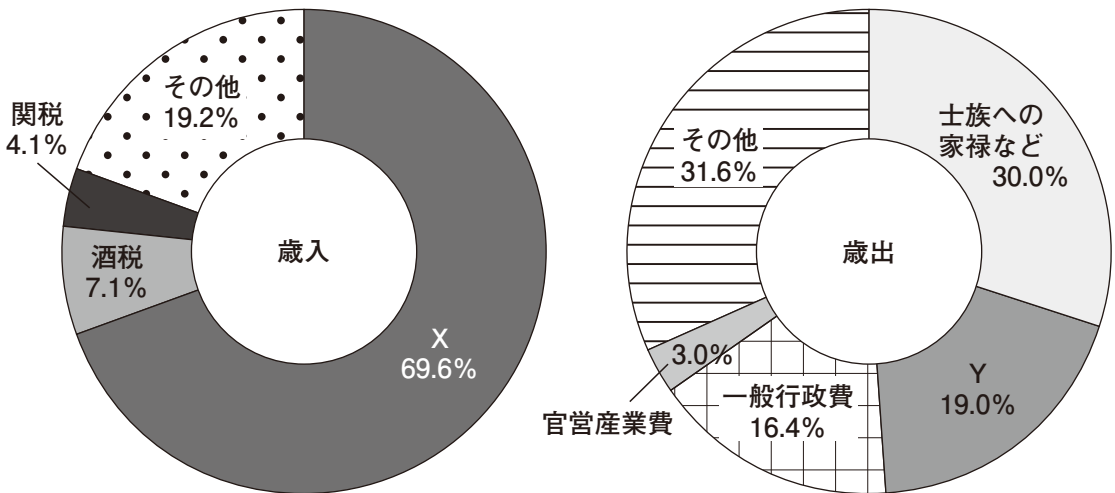
(4) 次の岩倉使節団の写真に写っている人物として正しくないものを、下のア～エの中から1つ選び、記号で答えなさい。



山口県文書館ホームページより

ア. 西郷隆盛    イ. 大久保利通    ウ. 伊藤博文    エ. 木戸孝允

問9. 次の2つのグラフは、1877年（明治10年）の国家財政における歳入と歳出の割合を表しています。X・Yにあてはまる言葉をそれぞれ答えなさい。



『つながる歴史』(浜島書店)より作成

問10. 次のA～Cの文は、日本が1895年、1902年、1905年に結んだ条約の一部分です。  
文を読み、あとの問いに答えなさい。

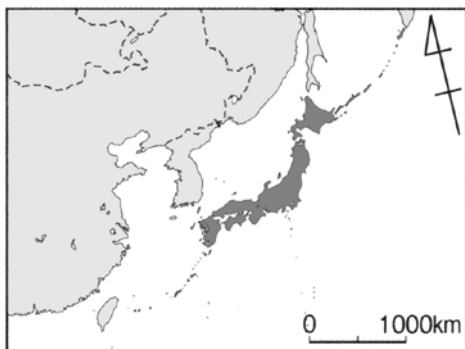
- A. イギリスは清国に、日本は清国・韓国に政治上、商業上、工業上の大きな利益がある。別国（ロシア）の侵略しんりやくによってその利益がそこなわれる場合、日英はそれを守るために必要な措置そちをとる。
- B. ロシア帝国は、日本の韓国に対する政治・経済・軍事上の優越権ゆうえつけんを認め、干渉かんしょうしないことを認める。
- C. 清は遼東半島りょうとうを日本にゆずる。

『つながる歴史』(浜島書店)より作成

(1) A～Cを古いものから順に並べたとき、並べ方として正しいものを次のア～カの中から選び、記号で答えなさい。

- ア. A→B→C                      イ. A→C→B                      ウ. B→A→C  
エ. B→C→A                      オ. C→A→B                      カ. C→B→A

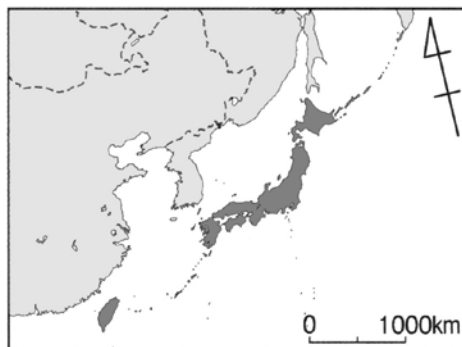
(2) Bの条約が結ばれた結果、定められた日本の領土を表す地図として正しいものを次のア～ウの中から選び、記号で答えなさい。



ア



イ



ウ

『小学社会6上』(教育出版)より作成

(3) Cの内容が含まれる条約を答えなさい。

問11. 1930年代のできごとについて述べた文として、正しくないものを次のア～エの中から1つ選び、記号で答えなさい。

- ア. 日本軍が満州国を建国し、政治の実権をにぎった。
- イ. 日本が国際連盟を脱退した。
- ウ. 日本がフランス領のベトナムに兵を進めた。
- エ. ドイツがポーランドに侵攻し、第2次世界大戦が始まった。

問12. 日中戦争が行き詰まると、日本は資源を求めて南進しました。1941年、アメリカが日本に輸出することを禁止した資源として正しいものを、次のア～エの中から1つ選び、記号で答えなさい。


- ア. 石油
- イ. 石炭
- ウ. 天然ガス
- エ. 鉄鉱石

問13. 戦後の日本の対外関係について述べた次の文 a・b の正誤の組合せについて、正しいものを下のア～エの中から選び、記号で答えなさい。

- a. 朝鮮戦争の最中に日韓基本条約が結ばれた。
- b. ソ連との国交回復後、国際連合への加入が認められた。

- ア. a - 正      b - 正      イ. a - 正      b - 誤
- ウ. a - 誤      b - 正      エ. a - 誤      b - 誤

問14. 次の写真A～Cについて、完成（開通）した順に並びかえたものとして正しいものを、下のア～カの中から選び、記号で答えなさい。



A

『世紀の祭典 日本万国博覧会 50周年公式ガイド』  
(万博記念公園マネジメント・パートナーズ)2021年



B

『新しい社会6』(東京書籍)



C

『小学社会6』(教育出版)

- ア. A→B→C      イ. A→C→B      ウ. B→A→C  
エ. B→C→A      オ. C→A→B      カ. C→B→A

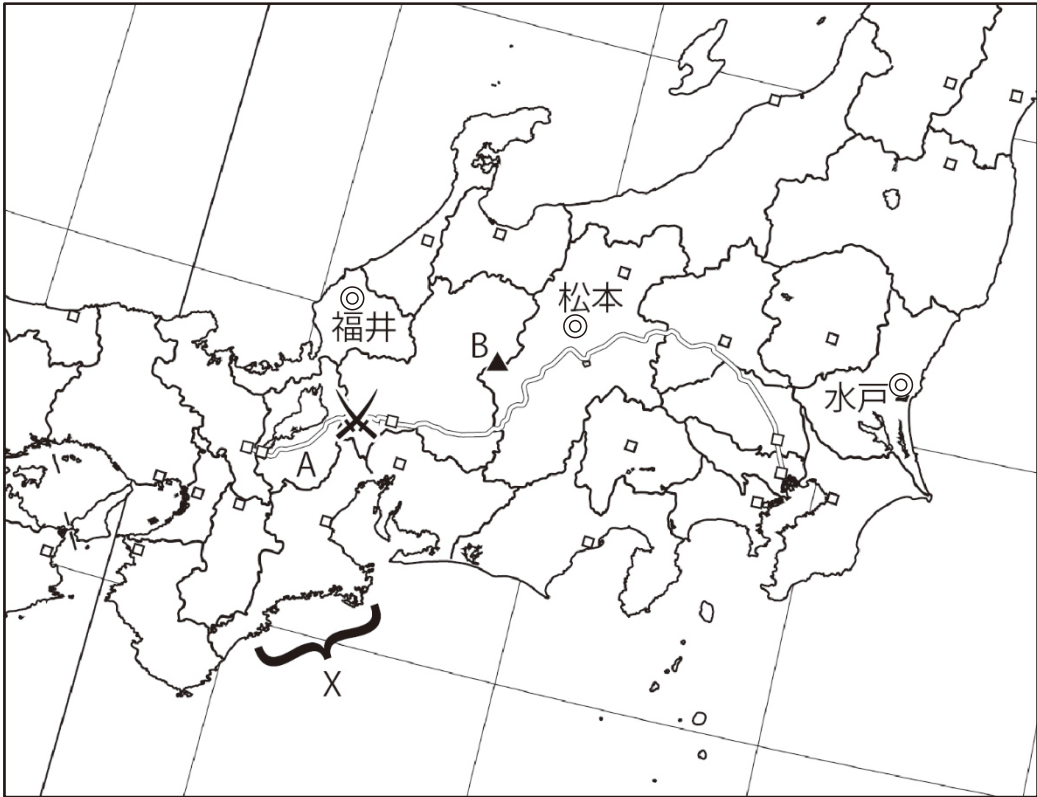
問15. 次の史料は、1972年に日本がある国と国交を正常化した際の声明の一部を改変したものです。どこの国との国交を正常化したのか、答えなさい。

史料

両国は、一衣帯水の間にある隣国であり、長い伝統的友好の歴史を有する。両国国民は、両国間にこれまで存在していた不正常的な状態に終止符を打つことを切望している。戦争状態の終結と国交の正常化という両国国民の願望の実現は、両国関係の歴史に新たな一頁を開くこととなろう。

歴史学研究会編『世界史史料11』(岩波書店)2012年より作成

2 地理分野について、次の問いに答えなさい。




地図1

問1. 地図1中のAについて、この県名と県庁所在地の都市名をそれぞれ正しい漢字で答えなさい。

問2. 地図1中のB ( ▲ ) は、日本国内で戦後最大級の火山災害が発生した火山です。この山の名前として正しいものを次のア～エの中から選び、記号で答えなさい。


- ア. 御嶽山      イ. 富士山      ウ. 浅間山      エ. 赤城山



問3. 地図1中の記号(  )は、江戸時代に整備された江戸と京都を結ぶ街道を示したものです。次の問いに答えなさい。

(1) この街道の名前として正しいものを次のア～エの中から選び、記号で答えなさい。

ア. 中山道      イ. 日光街道      ウ. 東海道      エ. 甲州街道

(2) 地図中の記号(  )でおこった戦いとして正しいものを次のア～エの中から選び、記号で答えなさい。

ア. かわなかじま川中島の戦い      イ. ながしの長篠の戦い      ウ. おけはざま桶狭間の戦い      エ. せきがほら関ヶ原の戦い

(3) この街道を西から東へ進むときの旧国名は次の通りです。  と  にあてはまる旧国名の組合せとして正しいものを次のア～カの中から選び、記号で答えなさい。

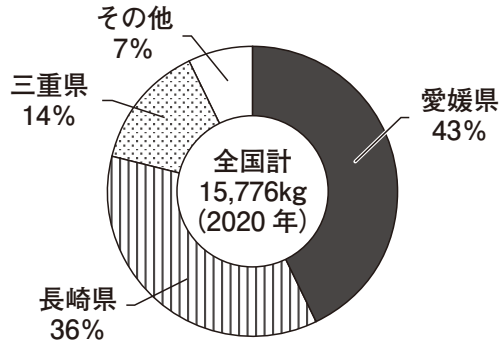
山城(京都) → 近江 →  → 信濃 → 上野 →  (江戸)

	ア	イ	ウ	エ	オ	カ
C	伊勢	伊勢	駿河	駿河	美濃	美濃
D	阿波	越後	武蔵	阿波	越後	武蔵

問4. 次のア～エのうち、3つの河川がすべて地図1の範囲内はんいに流れているものを1つ選び、記号で答えなさい。

ア. こう江の川      ふじ富士川      いしかり石狩川      イ. さがみ相模川      くま球磨川      よしの吉野川  
 ウ. きたかみ北上川      おおい大井川      しまんと四万十川      エ. てんりゅう天竜川      やはぎ矢作川      あらか荒川

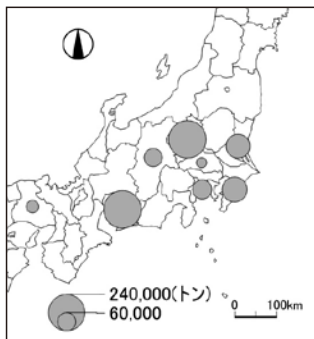
問5. 地図1中の記号Xが示す地域では、リアス海岸が続いており、ある水産物の養殖業がさかんです。次の円グラフは、その生産物の日本での生産量と割合を示しています。その水産物は何ですか。円グラフを参考に下のア～オの中から選び、記号で答えなさい。



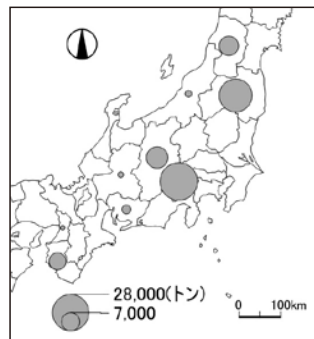
『海面漁業生産統計調査 令和2年』(農林水産省)より作成

- ア. うなぎ    イ. ほたて貝    ウ. 真珠    エ. のり    オ. さけ

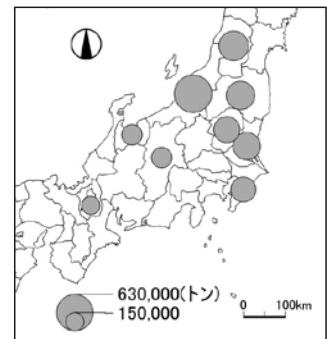
問6. 次のA～Cは、都府県別の米, キャベツ, ももについて生産量の上位8位までを表したものです。A～Cと作物との組合せとして正しいものを、下のア～カの中から選び、記号で答えなさい。



A



B



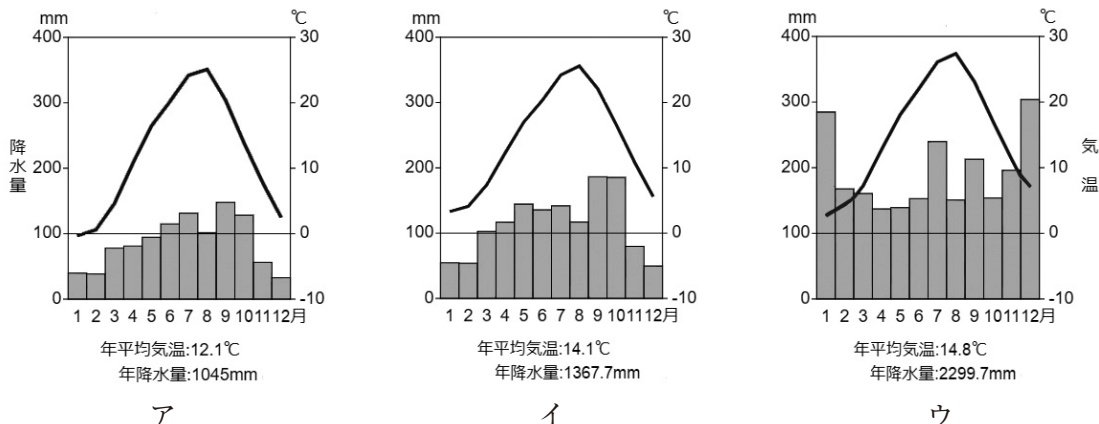
C

『データでみる県勢2022』(矢野恒太記念会編)より作成

	ア	イ	ウ	エ	オ	カ
米	A	A	B	B	C	C
キャベツ	B	C	A	C	A	B
もも	C	B	C	A	B	A

問7. 地図1中の福井県、長野県と茨城県について答えなさい。

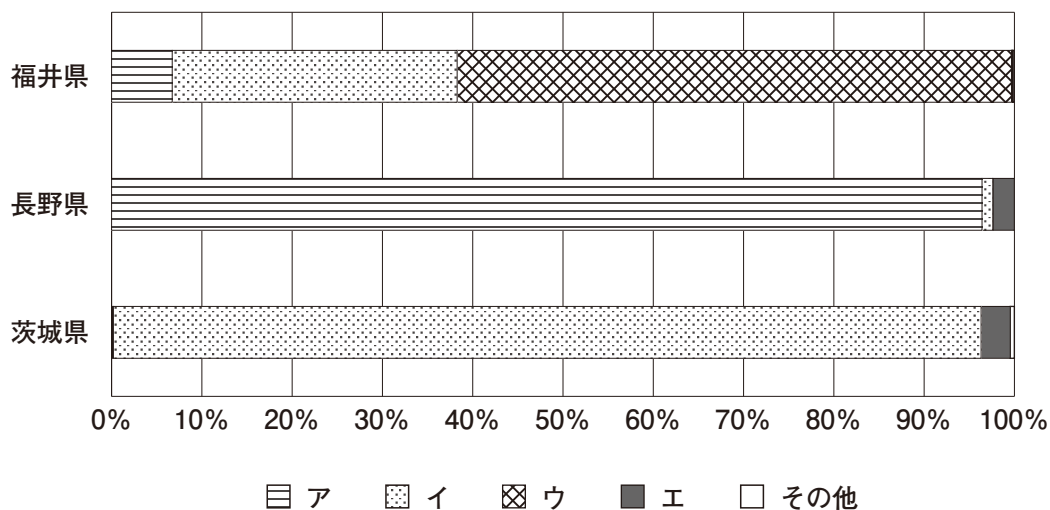
(1) 次の雨温図ア～ウは、福井・松本・水戸のものです。福井の雨温図をア～ウの中から選び、記号で答えなさい。



※数値は、気象庁のデータによる。

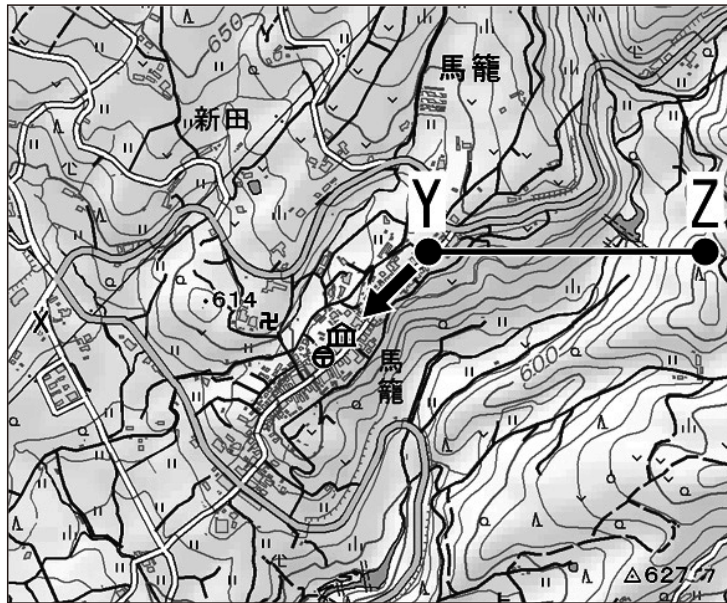
(2) この3県の発電方式について、次のグラフのア～エは、火力、原子力、水力、太陽光のどれかを示しています。原子力を表しているものをグラフのア～エの中から選び、記号で答えなさい。

### 3県の発電方式別割合 (2018年)



『データでみる県勢2022』(矢野恒太記念会編)より作成

問8. 次の地形図は、地図1中の街道にある宿場町の現在の様子を示したものです。



※等高線は10mごとに1本ひかれています。  
電子地形図25000 『馬籠』(国土地理院)より作成

(1) 地形図中に見られる地図記号として、正しくないものを次のア～エの中から1つ選び、記号で答えなさい。

ア. 交番      イ. 郵便局      ウ. 図書館      エ. 寺院

(2) 次の文は、地形図中の地点Yから見える風景について説明した文です。空欄(a)～(d)にあてはまる言葉をア・イからそれぞれ選び、記号で答えなさい。

矢印の方角を見ると、(a：ア. 上り      イ. 下り) 坂になっています。建物が並ぶ道の先には、なだらかな斜面を利用した (b：ア. 水田      イ. 果樹園) が見えます。地点Yから地点Zにかけては (c：ア. 深い谷      イ. 高い尾根) が見られ、最も高い地点と最も低い地点との標高差は、(d：ア. およそ60m      イ. およそ200m) であることが読み取れます。

問9. 地図1中の3つの県の特徴を表にまとめました。あとの問いに答えなさい。

	岐阜県	群馬県	神奈川県
面積 (km <sup>2</sup> 2020年)	10,621	6,362	2,416
人口 (人 2020年)	1,979,781	1,940,333	9,240,411
65歳以上の割合 (% 2019年)	30.1	29.8	25.3
県内総生産 (円 2018年度)	7兆9208億	8兆9898億	35兆7171億
主な生産物 (2019, 2020年)	ほう丁, ( P ), 木製机・いす, 油圧 シリンダー, 換気 扇	( Q ), 乳酸菌 飲料, アイスクリー ム, 即席めん類, 自動車部分品	口紅・ほお紅等, 果 実酒, ( R ), ト ラック, ガソリン
100世帯あたり 乗用車保有台数 (台 2020年)	156.2	161.1	69.3
通勤・通学に 電車・鉄道を 使う人数 (人 2020年)	43,891	27,677	1,452,020
世界遺産の有無 (2021年)	あり	あり	なし

『データでみる県勢2022』(矢野恒太記念会編), 令和2年国勢調査より作成

(1) この表について説明した文として正しくないものを, 次のア～エの中から1つ選び, 記号で答えなさい。

- ア. 県民1人あたりの県内総生産が最も大きいのは, 群馬県である。
- イ. 1km<sup>2</sup>あたりの人口が最も少ないのは, 群馬県である。
- ウ. 神奈川県の65歳以上の人口は, 岐阜県の総人口よりも多い。
- エ. 3県とも, 主な生産物の中に重工業に関連する製品があげられている。

(2) 前のページの表中「主な生産物」の ( P ) ~ ( R ) にあてはまる生産物の組合せとして正しいものを、次のア～カの中から選び、記号で答えなさい。

	ア	イ	ウ	エ	オ	カ
P	合成洗剤	合成洗剤	こんにやく いも	こんにやく いも	陶磁器	陶磁器
Q	こんにやく いも	陶磁器	合成洗剤	陶磁器	合成洗剤	こんにやく いも
R	陶磁器	こんにやく いも	陶磁器	合成洗剤	こんにやく いも	合成洗剤

『データでみる県勢2022』(矢野恒太記念会編)より作成

(3) 群馬県と岐阜県にある世界遺産を説明した次の文 a・b の正誤の組合せとして正しいものを、下のア～エの中から選び、記号で答えなさい。

a. 群馬県にある合掌造りの集落は、日本有数の豪雪地帯にあり、養蚕や紙すきが行われていた。

b. 岐阜県にある富岡製糸場は、明治政府によって設立され、日本の製糸業の発展に大きく貢献した。

- ア. a - 正      b - 正                  イ. a - 正      b - 誤  
ウ. a - 誤      b - 正                  エ. a - 誤      b - 誤

(4) 神奈川県は、岐阜県と群馬県にくらべて「100世帯あたり乗用車保有台数」が少ないです。なぜ少ないのでしょうか、前のページの表にある情報をもとに考えられることを述べなさい。

### 3 公民分野について、次の文を読み、あとの問いに答えなさい。

政府と沖縄県が開いた沖縄復帰50周年記念式典では、那覇市出身の学生団体共同代表・平敷雅（へしき・みやび）さんが、県青年団協議会会長の普天間真也さんとともに若者代表のあいさつを読み上げた。①子どもの貧困問題に取り組む平敷さんは「より良い沖縄」を未来につなぐ決意を述べた。

国際基督教大学（東京）の2年生。②新型コロナウイルスの感染拡大が始まった頃、休校措置で「命綱」の給食も取れなくなった困窮世帯の子どもたちがいることを母から聞き、動かずにいられなかった。

高校3年生だった2020年5月、学生ボランティア団体「VONS」を友人と設立した。度々帰省して県内の商業施設の一角を借り、余った食料品の提供を呼びかけ、福祉団体などに寄付する活動を続けている。大学で出会った本土の友人には③戦後の沖縄の歩みを知らない人も多い。「50年の節目に南国のイメージだけではない側面も知ってほしい」と大役を引き受けた。

「沖縄では日々の食べ物に困る子もいます。そんな子ども達（たち）に手をさしのべ、この新たな問題に立ち向かいます」

式典では、今後子ども貧困問題に力を尽くしていく思いを語った。

米統治下は、平敷さんには「遠い昔のよう」に感じる。しかし、50年を経ても④本土と県民所得などの格差は残る。こうした社会事情が⑤貧困の連鎖の背景にあると感じている。落ち着いた声であいさつを終え、「沖縄の課題について今後も学び続け、50年後に沖縄を引っ張っていける人材の育成にも携わりたい」と抱負を語った。

一方、県民代表のあいさつは公益財団法人対馬丸記念会の代表理事、高良政勝さんが務め、先の大戦で沖縄から本土へ向かう学童疎開船が敵艦の攻撃を受けて沈没し、多くの犠牲者を出した悲劇などに触れた。

「私たちが望んだ沖縄県はまだ道半ばの感があります」

あいさつの終盤では、そう述べた。式典後、記者団の取材に応じ、「基地のない沖縄が理想。若い人の力でもっと⑥平和な島にしてほしい」と希望を託した。

(2022年5月16日「読売新聞」より、一部省略して抜粋)

問1. 下線部①について、子どもを貧困状態におちいらせないために、学校教育は重要です。国として、子ども1人にいくらの学校教育費を使っているか調べるために、まず、国全体としていくらの学校教育費を使っているかのデータを得ました。あと1つ、どのような国のデータが必要ですか。次のア～エの中から選び、記号で答えなさい。

ア. 税収額  
ウ. 学校数

イ. 公務員の給料額  
エ. 子どもの人数

問2. 下線部②について、新型コロナウイルス感染拡大への対応として、「ウィズコロナ」や「ゼロコロナ」という言葉が聞かれるようになりました。次の問いに答えなさい。

※ウィズコロナ：新型コロナウイルスの感染対策をしつつ、経済活動をできるだけ通常にもどそうという考え方。

※ゼロコロナ：経済活動に強い制約を加えてでも感染拡大防止を徹底する<sup>てっぺい</sup>という考え方。

(1) 朝7時から夜10時まで営業しているハンバーガーショップがあり、「ウィズコロナ」の対応策を考えているとします。

ア. 座席数を半分に減らし<sup>かんかく</sup>間隔を広くあける。  
イ. 毎日夜8時で閉店する。

これら2つのうち1つだけを実行するとき、売り上げをより多く確保できるのはどちらだと考えますか。アかイで答えなさい。また、自分なりに店の状況<sup>じょうきょう</sup>を設定して、そのように考える理由も説明しなさい。

(2) 「ゼロコロナ」の対応策として、「飲食店利用者に1人でも感染者が出た場合、その店は1週間営業を止めなければならぬ<sup>だれ</sup>」という対応策が義務づけられたとします。このとき、誰のどのような権利が制約を受けると考えられますか、説明しなさい。



問3. 下線部③について、次の問いに答えなさい。

- (1) 1951年、サンフランシスコ平和条約が結ばれ、翌年の4月28日に日本は独立を回復しました。一方、引き続きアメリカの占領下<sup>せんりょう</sup>に留まった沖縄では、4月28日が異なる意味でとらえられることがあります。沖縄県では4月28日を何と呼びますか、次のア～エの中から1つ選び、記号で答えなさい。

ア. 希望の日  
ウ. 屈辱<sup>くつじやく</sup>の日

イ. 慰霊<sup>いれい</sup>の日  
エ. 再起の日

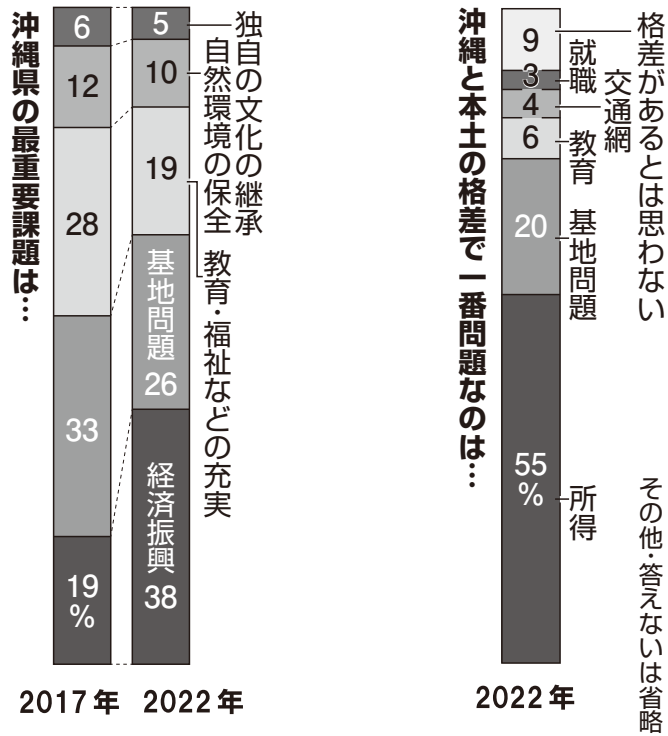
- (2) アメリカの占領下における沖縄の説明として、正しくないものはどれですか。次のア～エの中から1つ選び、記号で答えなさい。

ア. お金は、日本の円ではなくアメリカのドルが使われた。  
イ. 沖縄から東京に行くために、パスポート<sup>とこう</sup>（渡航証明書）が必要だった。  
ウ. アメリカ軍が、沖縄の人の土地を強制的に取り上げたことがあった。  
エ. 学校教育で日本語を使っ<sup>と</sup>てはならず、英語だけで授業が行われた。

- (3) 次の写真は、那覇市内の様子です。この写真が撮<sup>と</sup>られたのは、1960年代と1980年代のどちらであるかを答え、そのように考える理由も説明しなさい。



問4. 下線部④について、次の資料は、2022年3～4月に沖縄県民の考えを調べた結果です。ここから読み取れることを、下のア～エの中から1つ選び、記号で答えなさい。



朝日新聞DIGITAL(2022年5月12日)より作成

- ア. 若者たちの教育問題への関心が高まった。
- イ. 沖縄の自然環境の破壊が進んだ。
- ウ. 沖縄県民の所得は、全国平均の55%ほどだった。
- エ. 基地問題が沖縄県の最重要課題であると考えてる人の割合が減った。

問5. 下線部⑤について、次の問いに答えなさい。

(1) 国が行う貧困対策の予算案を作るのはどこですか、次のア～ウの中から1つ選び、記号で答えなさい。

ア. 国会          イ. 内閣          ウ. 裁判所

(2) 貧困の連鎖を食い止めるための政策として、正しくないものはどれですか。次のア～エの中から1つ選び、記号で答えなさい。

- ア. 給食の費用を家庭が負担しなくていいようにする。
- イ. 大学の学費を援助する制度を充実させる。
- ウ. 子どもを保育園に預けて、親が働きやすいようにする。
- エ. 貧困家庭の高校生がアルバイトの仕事を見つけやすいようにする。

(3) 貧困の連鎖に関わることとしてヤングケアラーの問題があります。ヤングケアラーとはどのような人のことをいいますか、次のア～エの中から1つ選び、記号で答えなさい。

- ア. 家族の世話を日常的にしなければいけない子ども。
- イ. 学校の勉強についていくことが難しい子ども。
- ウ. 日本語を十分に話せない子ども。
- エ. 心と体の性別について悩んでいる子ども。

問6. 下線部⑥について、日本国憲法第9条の内容として正しいものを、次のア～エの中から1つ選び、記号で答えなさい。

- ア. 日本の船が攻撃されたとき、反撃することはできない。
- イ. 自衛のために陸軍を持てるが、海軍を持つことはできない。
- ウ. 貿易を停止するなどして、外国の経済に打撃を与えることはできない。
- エ. 戦争によって、外国とのもめごとを解決することはできない。

