

2022 年度

社 会
(3期)

(答はすべて解答用紙に記入すること)

(時 間 理科とあわせて 60分)

番 号		氏 名	
--------	--	--------	--

問題は、次のページからはじまります。

1 歴史分野について、次の問いに答えなさい。

問1. 古代について書かれた次の文X・Yを読み、正誤の組合せとして正しいものを、あとのア～エの中から選び、記号で答えなさい。

X. 古墳が、南は九州から北は関東まで発見されていることから、大和朝廷は、その地域の豪族や王たちを従え、勢力範囲としていたことがわかる。

Y. 律令制がととのえられると、力の強い豪族は貴族として政治に参加したり、地方の豪族も役人としてそれぞれの地方を治めたりした。

ア. X - 正 Y - 正 イ. X - 正 Y - 誤

ウ. X - 誤 Y - 正 エ. X - 誤 Y - 誤

問2. 遣唐使の航路は、はじめは朝鮮半島に沿ったものでしたが、朝鮮との関係が悪化すると、変更されました。航路の変更に影響をおよぼした朝鮮半島の国を、次のア～エの中から1つ選び、記号で答えなさい。

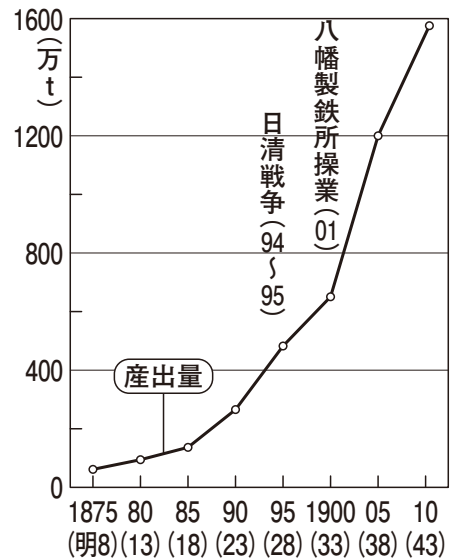
ア. 百済 イ. 新羅 ウ. 高句麗 エ. 渤海

問3. 江戸幕府は、鎖国のもとでも、4つの窓口を通して他の国や地域と交流をしていました。たとえば、長崎を窓口としてオランダや中国と交流をしていました。他に、どこの窓口を通して、どこと交流をしていましたか。解答用紙に合わせて、例を2つ答えなさい。

問4. 次のAは、2011年にユネスコの「世界の記憶」に登録された絵です。この絵は、どのような仕事の様子を表していますか。関連するBのグラフを参考にして答えなさい。



A



B

『新詳日本史』(浜島書店)より作成

問5. 次のX～Zのできごとを、時代の古いものから順に並べたとき、並び方として正しいものを、あとのア～カの中から選び、記号で答えなさい。

- X. 女性がタイピストや電話交換手などの仕事で活躍するようになった。
- Y. 女性が国会や地方議会に議員として参加するようになった。
- Z. 女性が小説家として文学作品を雑誌に発表するようになった。

- ア. X→Y→Z
- イ. X→Z→Y
- ウ. Y→X→Z
- エ. Y→Z→X
- オ. Z→X→Y
- カ. Z→Y→X

問6. 次の文は、太平洋戦争前の帝国議会における、ある議員の演説の一部です。文を読み、あとの問いに答えなさい。

我が国はかつて支那（注1）と戦った。その戦いにおいても東洋永遠の平和が唱えられたのである。①次にロシアと戦った。その時にも東洋永遠の平和が唱えられたのである。また平和を目的として戦後の条約も締結せられたのでありますが、平和が得られましたか。得られないではないか。平和が得られないからして今回の日支事変（注2）も起こって来たのである。

また眼を転じてヨーロッパの近状を見ましょう。ご承知の通りに二十幾年前に②ヨーロッパはあの通りの大戦争をやった。五か年の間国を挙げて戦った。戦争の結果はどうなったか。敗けた国はいうに及ばず、勝った国といえども徹頭徹尾（注3）得失相償わない（注4）。その苦き経験に顧みて、戦争などはやるものでない。およそこの世の中において戦争ほど馬鹿らしきものはない。それ故に未来永久、この地球上からして戦争を絶滅する。その目的、その理想をもって（A）を作った。我が日本も五大強国の一つとしてこれに調印しているのであります。平和は得られましたか。（A）の殿堂（注5）はどうなっているか。民族の発展慾、国家の発展慾は、紙上の条約などでもって抑制することが出来るものでない。十年経ち、二十年経つ間においてまたもや戦争熱が勃興（注6）して来る。ヨーロッパの現状は活きたる教訓を我々の前に示しているのであります。

斎藤隆夫『回顧七十年』（中公文庫）2014年より（一部改）

（注1） 支那…中国

（注2） 日支事変…日中戦争

（注3） 徹頭徹尾…最初から最後まで一貫するさま。完全に。

（注4） 得失…得ることと失うこと。

相償う…互いに損害などの埋め合わせをする。弁償する。

（注5） 殿堂…ある分野の中心となる建物・場所。

（注6） 勃興…おこる。

(1) 下線部①に関連する説明文として、正しくないものを次のア～エの中から1つ選び、記号で答えなさい。

- ア. 日本は、リュイシュン（旅順）や日本海で、ロシア軍と戦った。
- イ. 日本は、この戦争の間に韓国に軍隊を送り、韓国を併合した。
- ウ. ロシア国内では、この戦争の間に、革命が起こった。
- エ. 日本とロシアは、アメリカのポーツマスで講和条約を結んだ。

(2) 下線部②について、この戦争の名称を答えなさい。

(3) (A) にあてはまる言葉を漢字4字で答えなさい。

(4) この演説が行われたのは、何年と考えられますか。文の内容から考えて、次のア～エの中から選び、記号で答えなさい。

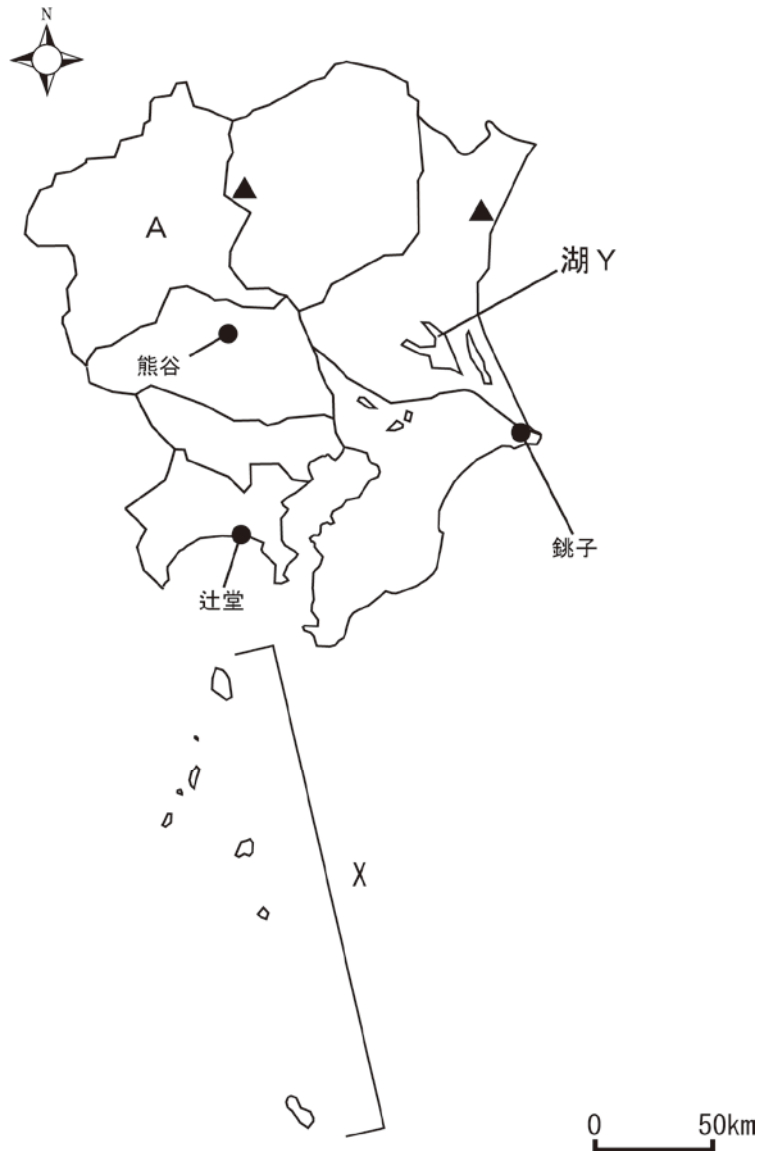
- ア. 1920年 イ. 1930年 ウ. 1940年 エ. 1950年

(5) この演説から読みとれることとして正しくないものを次のア～エの中から1つ選び、記号で答えなさい。

- ア. 中国との戦いもロシアとの戦いも、東洋の平和を目的としていたが、結局のところ、平和は実現しなかった。
- イ. 戦争ほど馬鹿らしいものではなく、たとえどのような戦争であっても、地球上から絶滅すべきである。
- ウ. 条約を結び平和的に問題を解決することが、次に戦争をひきおこさないための唯一の方法である。
- エ. 戦争が終わり年月がたつと、また戦争をする動きになることを、ヨーロッパの現状から学ぶべきである。

2 地理分野について、次の問いに答えなさい。

I. 次の地図を見て、あとの問いに答えなさい。



問1. Aの県名と県庁所在地の都市名をそれぞれ答えなさい。

問2. 関東地方の各都県と接している県として正しくないものを、次のア～エの中から1つ選び、記号で答えなさい。

ア. 福島県 イ. 新潟県 ウ. 滋賀県 エ. 長野県

問3. Xが示す島々について書かれた文として正しいものを、次のア～エの中から1つ選び、記号で答えなさい。

- ア. ^{にいじま}新島や^{はちじょうじま}八丈島がある、伊豆諸島である。
- イ. ^{ちちじま}父島や^{ははじま}母島がある、小笠原諸島である。
- ウ. ^{おちかじま}屋久島や^{ふくえじま}種子島がある、大隅諸島である。
- エ. ^{おちかじま}小値賀島や^{ふくえじま}福江島がある、^{ごとう}五島列島である。

問4. 湖Yについて、次の問いに答えなさい。

(1) 湖Yの名前を次のア～エの中から選び、記号で答えなさい。

- ア. サロマ湖
- イ. ^{のじり}野尻湖
- ウ. ^{かすみ が うち}霞ヶ浦
- エ. ^{はまな}浜名湖

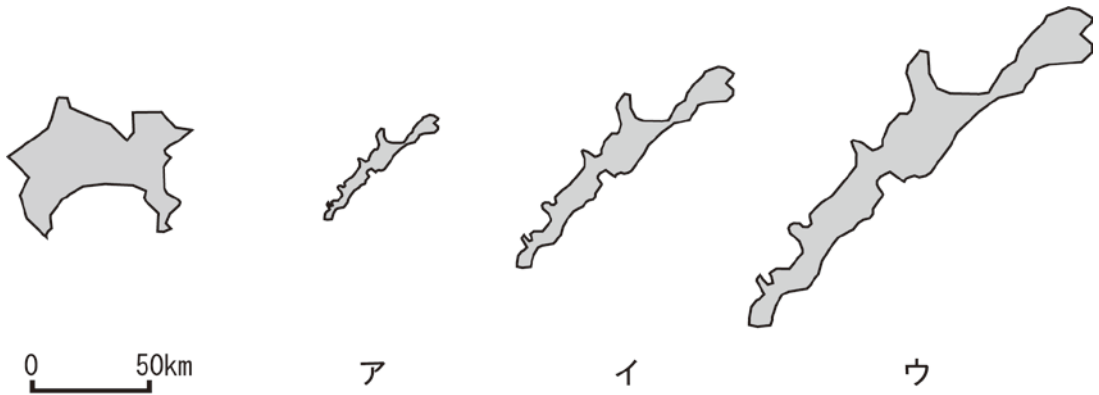
(2) 湖Yの説明として正しいものを、次のア～エの中から1つ選び、記号で答えなさい。

- ア. 石狩川流域に入る。近くにアイヌに関する^{しせつ}施設がある。
- イ. 信濃川流域に入る。近くでゾウの化石が産出した。
- ウ. 天竜川流域に入る。ウナギの^{ようしよく}養殖がさかんである。
- エ. 利根川流域に入る。レンコンの生産がさかんである。

問5. 地図中の記号▲は、重工業の発展を支えた資源の^{あと}鉱山跡を表しています。^{さいくつ}採掘していた資源として正しいものを、次のア～エの中から1つ選び、記号で答えなさい。

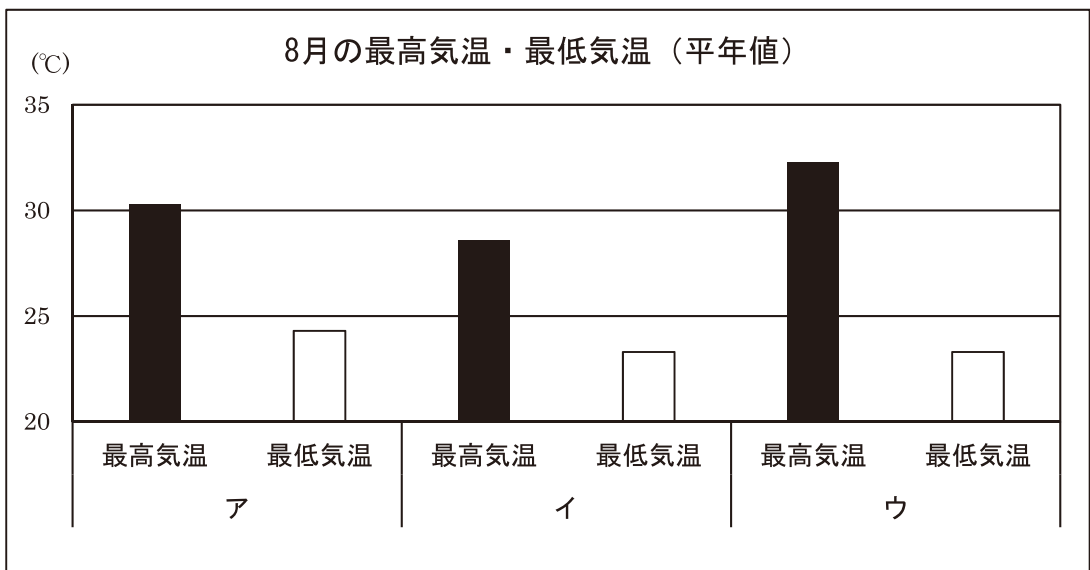
- ア. 鉄
- イ. 金
- ウ. 銀
- エ. 銅

問6. 神奈川県の高さと北方領土にある択捉島の広さを比べたとき、択捉島の広さを正しく表している図を、次のア～ウの中から選び、記号で答えなさい。



問7. 気象庁の資料から、地図中の熊谷観測点（埼玉県）、銚子観測点（千葉県）、辻堂観測点（神奈川県）について、8月の最高気温・最低気温（平年値）を比べたグラフをつくりました。次の問いに答えなさい。

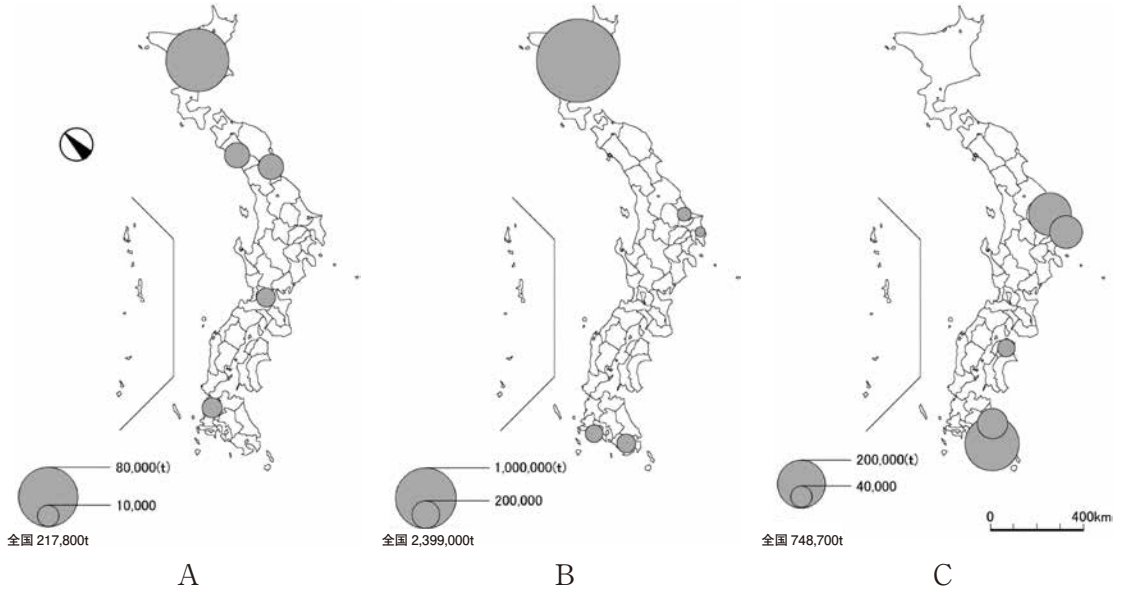
- (1) 熊谷観測点を表しているものとして正しいものを、グラフのア～ウの中から選び、記号で答えなさい。
- (2) (1) の答えを選んだ理由を、ほかの2つの地点との^{ちが}違いが明らかになるように説明しなさい。



気象庁ホームページより作成

II. 次の問いに答えなさい。

問8. 次の地図A～Cは、都道府県別のさつまいも，じゃがいも，大豆の生産量（単位：トン）上位5県を表したものです。A～Cと作物との組合せとして正しいものを，あとのア～カの中から1つ選び，記号で答えなさい。



『日本のすがた 2021』（矢野恒太記念会編），MANDARA10より作成
作問の都合上，北方領土は省略した。

	ア	イ	ウ	エ	オ	カ
さつまいも	A	A	B	B	C	C
じゃがいも	B	C	A	C	A	B
大豆	C	B	C	A	B	A

問9. 神奈川県, 千葉県, 兵庫県について, さかんな工業をまとめた表をつくりました。表中のA・Bにあてはまる工業の種類をあとのア～オの中からそれぞれ選び, 記号で答えなさい。

表 3 県の業種別製造品出荷額 (2017年, 億円)

	神奈川県	千葉県	兵庫県
A	6,383 -	16,842 3位	19,589 2位
化学 (注1)	47,767 2位	51,996 1位	28,529 -
電気機械 (注2)	17,797 -	5,524 -	23,538 4位
B	20,327 -	19,230 -	21,259 3位

(注1) 化学工業, ゴム製品, プラスチック製品, 石油製品などの合計

(注2) 電気機械器具, 情報通信機械器具, 電子部品, 電子回路などの合計

(注3) 全国の順位が5位以上の県は, その順位を表記した。

『地理統計 2021』(帝国書院)より作成

ア. 食料品など

イ. 紙・パルプなど

ウ. せんい

エ. 輸送機械

オ. 鉄鋼

3 公民分野について、次の問いに答えなさい。

下の文章は、2021年6月23日に行われた「沖縄全戦没者追悼式」で、玉城デニー沖縄県知事が発表した平和宣言の一部です。これを読んで、あとの問いに答えなさい。

平和宣言

太平洋戦争最後の熾烈な地上戦が行われてから、76年目の6月23日を迎えました。荒れ狂う戦火は、20万人余りの尊い命を奪い去り、多くの人々を傷つけ、①かけがえのない文化遺産や美しい自然を破壊しました。

私たちは、想像を絶する悲惨な沖縄戦の記憶を風化させることなく、亡くなられた方々の悲しみや苦しみに思いを寄せ、無念の声を代弁する戦争体験者の証言を後世に語り継ぎ、平和がいかに尊いものかという人類普遍の教訓を胸に刻み、②恒久平和の実現を強く求めながら、復興と発展の道を懸命に歩んでまいりました。

しかしながら、今もなおここ摩文仁を始め県土の各地には、犠牲になられた方々の御遺骨や多くの不発弾が埋もれており、戦争の傷は未だ癒えることがありません。県民の思いに寄り添い、③国の責任において一日も早い御遺骨の収集、不発弾の処理を行っていただきたいと思えます。また、国土面積の約0.6パーセントの沖縄県に米軍専用施設面積の約（ A ）パーセントが集中し続けていることにより、騒音、環境問題、米軍関係の事件・事故が後を絶たない状況にあります。（中略）

このような中、沖縄県が来年本土復帰50年という大きな節目を迎えるに当たり、日米両政府は、県を含めた積極的な協議の場を作っていただき、辺野古新基地建設が唯一の解決策という考えにとらわれることなく、「新たな在沖米軍の整理・縮小のためのロードマップ」の作成と、目に見える形で沖縄の過重な基地負担の解消を図っていただくことを要望します。（中略）

一方、世界に目を向けると、依然として④地域紛争は絶えることがなく、貧困、飢餓、差別、人権侵害などの多くの問題が存在しています。

「愛の反対は憎しみではなく無関心です」という言葉があります。世界中の人々が連帯し、⑤多様性や価値観の違いを認め合い、対立や分断ではなく、協力して共に歩み、乗り越えていくことが、今求められています。（以下略）

問1. 下線部①について、1945年の沖縄戦で破壊されたあと、1992年に正殿^{せいでん}などの復元が完成したが、2019年に火事によって焼失した建物の名前を答えなさい。

問2. 下線部②について、日本国憲法第9条の内容として正しくないものを、次のア～エの中から1つ選び、記号で答えなさい。

- ア. 軍隊を持つが、それを戦争のためには用いない。
- イ. 他国との争いごとを、戦争によって解決することはしない。
- ウ. 武力によって他国^{あつど}を脅したりしない。
- エ. 国際平和を心から願い求めていく。

問3. 下線部③について、内閣が行うこととして正しいものを、次のア～エの中から1つ選び、記号で答えなさい。

- ア. 遺骨の収集を国が支援^{しえん}するための法律を制定する。
- イ. アメリカ軍基地をこの先も沖縄県に置くかどうかを決める。
- ウ. 日本国内で罪を犯したアメリカ兵が有罪か無罪かを決める。
- エ. 沖縄県の道路整備や教育の予算の使い方を沖縄県知事に命令する。

問4. (A) にあてはまる数字を、次のア～エの中から選び、記号で答えなさい。

- ア. 8.2 イ. 39.5 ウ. 70.3 エ. 82.0

問5. 下線部④について、最近の世界情勢の説明として正しくないものを、次のア～エの中から1つ選び、記号で答えなさい。

- ア. シリア内戦により、大勢の難民が発生した。
- イ. アメリカで、黒人差別に反対する運動^{うご}が各地でおこった。
- ウ. 欧米^{おうべい}は、中国におけるウイグル族弾圧^{だんあつ}を非難した。
- エ. 国連軍が、アフガニスタンのタリバン政権をたおした。

問6. 下線部⑤について、多様性や価値観の違いを認め合っているとはいえないものを、次のア～エの中から1つ選び、記号で答えなさい。

ア. 学校からの^{れんらく}連絡が、外国人の保護者にも伝わりやすいように、やさしい日本語を用いる。

イ. LGBTQの人が、トイレや更衣室を^{こうい}気軽に使えるようにする。

ウ. 様々な意見を取り入れるために、ものごとを多数決で決める。

エ. 個々の体質に合わせ、ワクチンの接種をするかしないかの判断を尊重する。

問7. 沖縄県が日本に復帰した年を答えなさい。

