

2021 年度

社 会
(3期)

(答はすべて解答用紙に記入すること)

(時 間 理科とあわせて 60分)

番 号		氏 名	
--------	--	--------	--

問題は、次のページからはじまります。

1 歴史分野について、次の問いに答えなさい。

問1. 次のA～Dを読み、問いに答えなさい。

A

「(X) はあけぼの。やうやうしろくなりゆく山ぎは、すこしあかりて、紫^{むらさき}だちたる雲のほそくたなびきたる。」
(清少納言)

B

「祇園^{ぎ おんしやうじゃ}精舎^{かね}の鐘^{しよぎやう むじやう}の聲^{ひび}、諸行無常^{さ ら そうじゆ}の響^{じやうしやひつすい}きあり。沙羅双樹^{ことわり}の花の色^さ、盛者必衰^{じやうしやひつすい}の理^{ことわり}をあらはす。おごれるものも久しからず、ただ(X)の夜の夢のごとし。」(『平家物語』)

C

「(X) 過ぎて 夏^{なつきた}来^らるらし 白^{しろ}たへの衣^{ころも}干^ほしたり 天^{あめ}の香^か具^ぐ山^{やま}」
(持統天皇)

D

「天^{あま}の原^{はら} ふりさけ見れば (X) 日^ひなる 三^み笠^{かさ}の山^{やま}に いでし月^{つき}かも」
(阿部^{あべ}仲^{のな}麻^ま呂^ろ)

『日本古典文学全集』(小学館)より、一部改変

(1) (X) に入る共通の漢字1字を答えなさい。

(2) Aが書かれた時代について説明した文として正しいものを、次のア～エの中から1つ選び、記号で答えなさい。

- ア. 幕府と御家人が、ご恩と奉公の関係で結ばれていた。
- イ. 書院造とよばれる建築様式が広まった。
- ウ. 中臣鎌足の子孫である藤原氏が大きな力を持つようになった。
- エ. 雪舟が『天橋立図』を描いた。

(3) Bは、平氏の盛衰^{せいすい}について書かれた作品です。源平について書かれた次の文 a・b の正誤の組合せとして正しいものを下のア～エの中から選び、記号で答えなさい。

- a. 平清盛は、武士として初めて太政大臣^{だいじょうだいじん}となった。
- b. 源頼朝は、征夷大將軍に任命された後、壇ノ浦の戦いで平氏をほろぼした。

- ア. a - 正 b - 正 イ. a - 正 b - 誤
- ウ. a - 誤 b - 正 エ. a - 誤 b - 誤

(4) Cは、天皇や貴族、農民、兵士などが詠んだうたが収められた、現存する最古の歌集に収録されています。8世紀につくられたこの歌集の名前を答えなさい。

(5) Dは、8世紀に中国に留学していた阿部仲麻呂が、故郷^{なつ}を懐かしく思う気持ちを詠んだものです。この時代の中国の都として正しいものを、次のア～エの中から選び、記号で答えなさい。

- ア. 長安^{ちやうあん} イ. 大都^{だいと} ウ. 杭州^{こうしやう} エ. 洛陽^{らくやう}

問2. 江戸時代について書かれた文として正しくないものを、次のア～エの中から1つ選び、記号で答えなさい。

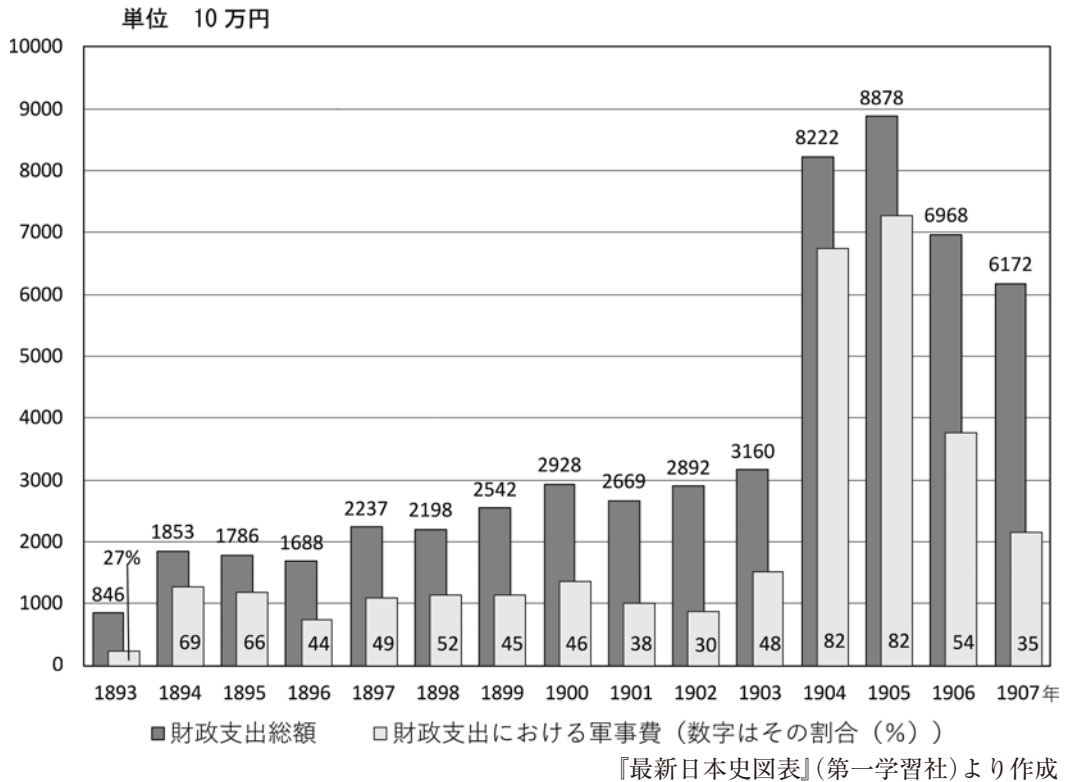
- ア. 3代将軍家光は、それまでの武家諸法度を改めて、参勤交代の制度を定めた。
- イ. 歌川広重の『東海道五十三次』など、色あざやかな浮世絵が描かれた。
- ウ. 各地に寺子屋がつくられて、子どもに読み書きそろばんなどが教えられた。
- エ. 鎖国をしていた期間は、中国とオランダの2国だけに交流が限定された。

問3. 江戸時代には、幕府はキリスト教を禁止して、次のような像を踏ませて信者かどうかを調べました。幕府がキリスト教を禁止した理由を説明しなさい。



東京国立博物館ホームページより

問4. 次のグラフは、1893年から1907年までの財政支出総額と財政支出における軍事費を示しています。この表から読み取れる内容として正しいものを、下のア～エの中から1つ選び、記号で答えなさい。



- ア. 軍事費の総額は、1900年以降増え続けている。
- イ. 日清戦争が始まった年の軍事費の割合は、44%となっている。
- ウ. 日露戦争が始まった年の財政支出総額は、前年度の倍以上となっている。
- エ. 朝鮮を植民地とした年は、前年に比べて、財政支出総額が増大している。

問5. A～Cの出来事を、時代の古いものから順に並べたとき、並び方として正しいものを下のア～カの中から選び、記号で答えなさい。

- A. アメリカ軍が沖縄島に上陸し、住民をまきこんだ地上戦が始まった。
- B. 日本がハワイの真珠湾を攻撃し、ほぼ同時にマレー半島にも上陸した。
- C. アメリカが日本に対する石油の輸出を禁止した。

- ア. A→B→C イ. A→C→B ウ. B→A→C
- エ. B→C→A オ. C→A→B カ. C→B→A

問6. 次の資料は、新聞で紹介された（ Y ）国王の発言です。資料を読み、下の問いに答えなさい。

資料 『タイムズ』1945年8月16日付

私があなたがたに、（ X ）の敗北への感謝の祈りを私とともに神に捧げるように願ってから、三カ月が過ぎた。あのとき、私たちは、ヨーロッパに平和が戻っていたことを喜んだが、アジアにはまだ、倒されるべき強力で容赦のない、敵が残っていることを知っていた。（略）この戦いの中では、私たちの偉大な共同体のほぼすべての代表が、私たちの盟邦のかたわらで戦っていた。母国（ Y ）出身の兵士たち、諸自治領出身、インド出身、諸植民地出身の兵士たちのことである。（略）彼ら全員に、そして戦争の苦難と危険を彼らとわかちあった女性たちに対して、私は誇らから謝意に満ちた礼の言葉を送る。（略）

川島真・貴志俊彦編『資料で読む世界の8月15日』（山川出版社）より、一部改変

(1) 資料の（ X ）・（ Y ）に入る国名として正しいものを、次のア～エの中からそれぞれ1つずつ選び、答えなさい。

ア. イギリス イ. 日本 ウ. ドイツ エ. 中国

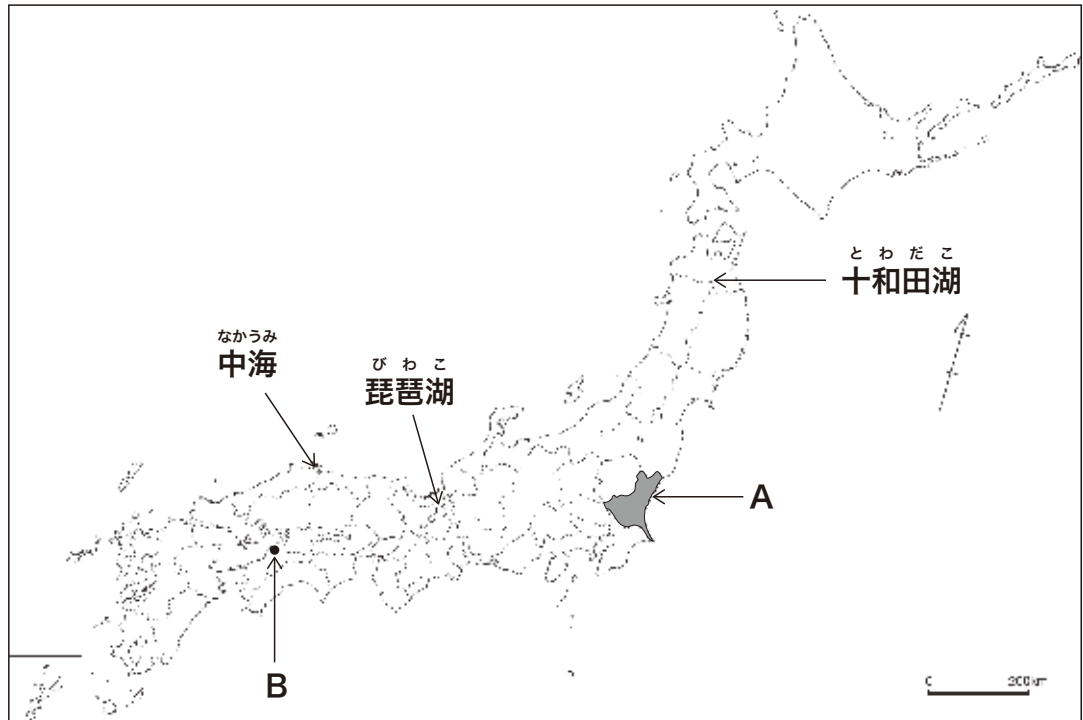
(2) 次の文 a・b について、資料から読み取れる内容の正誤の組合せとして正しいものを、次のア～エの中から選び、記号で答えなさい。

a. 国王は、戦争を戦った自国民に感謝しているが、その中には女性は含まれていない。

b. 国王は、戦争に協力してくれた植民地を、すぐに独立させたいと述べている。

ア. a - 正 b - 正 イ. a - 正 b - 誤
ウ. a - 誤 b - 正 エ. a - 誤 b - 誤

2 地理分野について、次の問いに答えなさい。



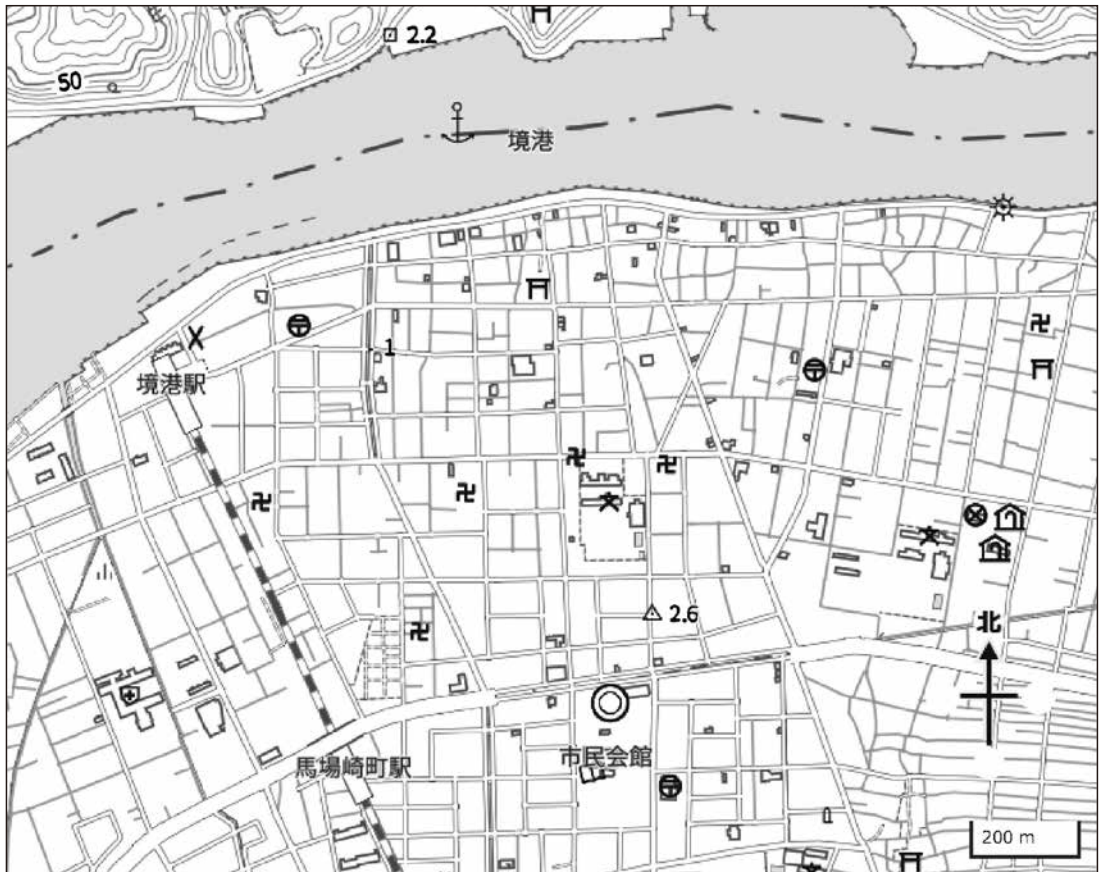
問1. Aの県名を答えなさい。

問2. Bは県庁所在地です。Bの都市名を答えなさい。

問3. 十和田湖と、中海について書かれた文として正しくないものを、次のア～エの中から1つ選び、記号で答えなさい。

- ア. 十和田湖は、奥羽山脈中にあり、青森県と秋田県の県境になっている。
- イ. 十和田湖は、きれいな淡水の湖であるため、ホタテやカキの養殖業がさかんである。
- ウ. 中海は、日本海沿岸の低地にあり、鳥取県と島根県の県境になっている。
- エ. 中海は、海水と淡水が混ざり、生態系が豊かで鳥類が多いことから、ラムサール条約に登録されている。

問4. 次の図は、地中海の沿岸にある都市の地図です。この図を見て、下の問いに答えなさい。



「地理院地図Vector(試験公開)」より作成

- (1) 境港駅さかいみなとから見た、市役所の方角を答えなさい。
- (2) 境港駅から、馬場崎町駅ばばさきちょうまでの直線距離として正しいものを、次のア～エの中から1つ選び、記号で答えなさい。

ア. 約100m イ. 約300m ウ. 約700m エ. 約1500m

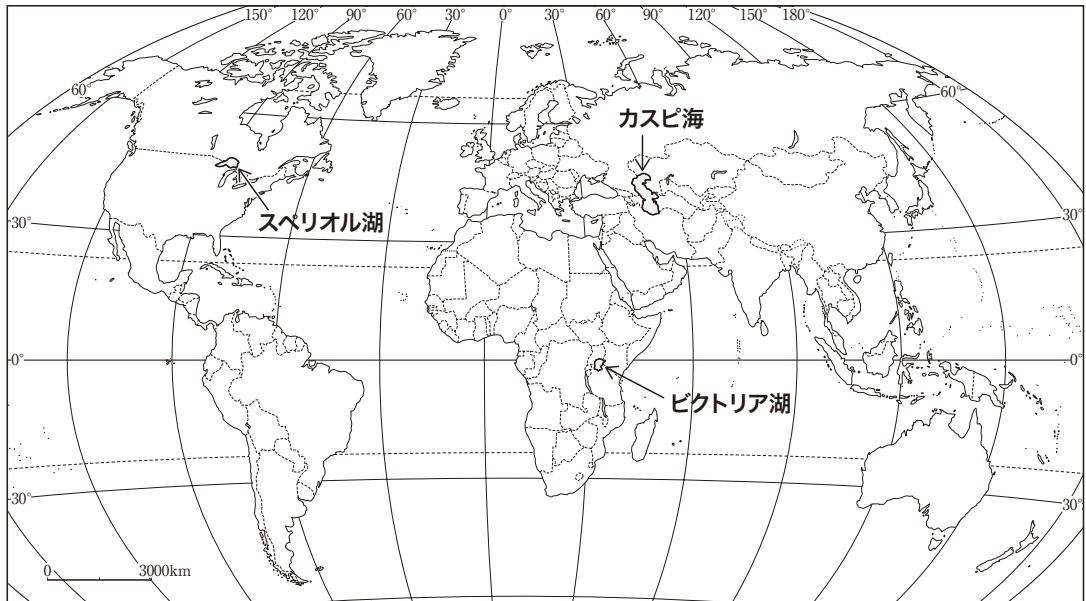
(3) この図について書かれた文として正しくないものを、次のア～エの中から1つ選び、記号で答えなさい。

- ア. 市街地が広がっている土地の標高は、1～3 mである。
- イ. 最も高い地点の標高は、50m以上である。
- ウ. 神社と寺院の記号を数えると、寺院の方が多い。
- エ. 郵便局と電波塔が、それぞれ1つずつ見られる。

問5. 琵琶湖について書かれた文として正しくないものを、次のア～エの中から1つ選び、記号で答えなさい。

- ア. 琵琶湖の水は、近畿地方の府県に住むおよそ4000万人の人々が利用している。
- イ. 琵琶湖から流れ出す瀬田川は、京都府に入ると宇治川、大阪府に入ると淀川と名前を変えて、大阪湾に流れ込む。
- ウ. 高度経済成長期、周辺で住宅地や工業団地の開発が進み、大量の排水が流れ込んだことで琵琶湖の水質が悪化し、赤潮やアオコの発生が問題になった。
- エ. 琵琶湖の水は、阪神工業地帯で利用されてきたが、工場の海外移転が進み、工業用水としての供給量が減っている。

問6. 世界のおもな湖について書かれた文として正しいものを，下のア～ウの中から1つ選び，記号で答えなさい。



- ア. カスピ海は，北緯40度付近に位置し，北岸にはロシア連邦が，南岸にはイランがある。
- イ. スペリオール湖は，北緯45度付近に位置し，北岸にはアメリカ合衆国が，南岸にはメキシコがある。
- ウ. ビクトリア湖は，赤道付近に位置し，北岸にはエジプトが，南岸にはケニアがある。

問7. 次の図は、日本の年間の発電電力量のうちわけを、発電方式ごとに表しています。水力発電を示しているものを、ア～エの中から選び、記号で答えなさい。

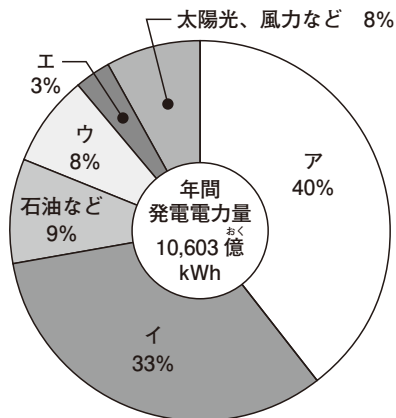


図 発電のうちわけ (2017年度)

『かがやけ！みんなのエネルギー』(資源エネルギー庁)より作成

問8. 次の図は、神奈川県が運営している水道について、水の使用量と給水人口のうっりかわりを表しています。給水人口が増えているにもかかわらず、1995年以降水の使用量が減っているのはなぜですか、理由を説明しなさい。

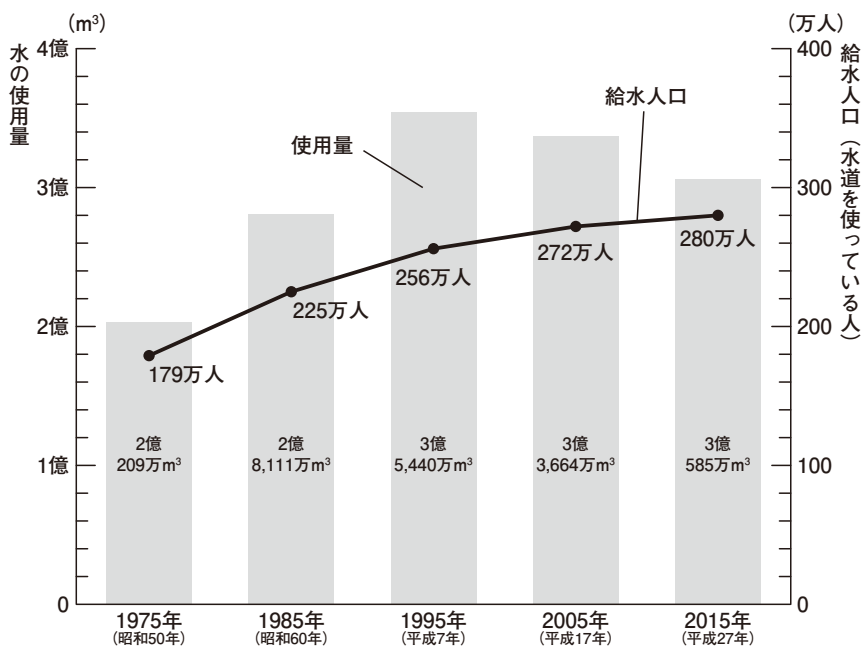


図 県営水道の使用量と給水人口のうっりかわり

『平成29年度版 わたしたちの水道』(神奈川県企業庁)より作成

3 公民分野について、次の問いに答えなさい。

問1. 国会・内閣・裁判所は、国の重要な役割を分担しています。それぞれの機関の役割の組合せとして正しいものを、次のア～カの中から選び、記号で答えなさい。

	ア	イ	ウ	エ	オ	カ
国会	司法	司法	行政	行政	立法	立法
内閣	行政	立法	司法	立法	司法	行政
裁判所	立法	行政	立法	司法	行政	司法

問2. 国民の政治に参加する権利について書かれた次の文 a・b の正誤の組合せとして正しいものを、下のア～エの中から選び、記号で答えなさい。

- a. 署名を集めることによって、衆議院の解散を求めることができる。
- b. 最高裁判所の裁判官として適しているかを、判断することができる。

- ア. a - 正 b - 正 イ. a - 正 b - 誤
- ウ. a - 誤 b - 正 エ. a - 誤 b - 誤

問3. 2020年1月31日、イギリスはヨーロッパ連合（EU）から離脱しました。この時のイギリスの首相として正しいものを、次のア～エの中から選び、記号で答えなさい。

- ア. マクロン イ. ジョンソン ウ. メルケル エ. メイ

問4. 次の a・b は、それぞれどの省庁が担当する仕事ですか。下のア～オの中から1つずつ選び、記号で答えなさい。

- a. マイナンバー制度の運用や、テレビなどの放送事業の監督
- b. 予防接種の実施^{じっし}や、食品・薬の安全の確認

- ア. 環境省
- イ. 厚生労働省
- ウ. 国土交通省
- エ. 総務省
- オ. 文部科学省

問5. 次のア～エは、日本国憲法に書かれていることがらです。ほかの3つと違うものを1つ選び、記号で答えなさい。また、それを選んだ理由を説明しなさい。

- ア. 教育を受けること
- イ. 裁判を受けること
- ウ. 税金を納めること
- エ. 健康で文化的な生活を営むこと

