

2018 年度

社 会
(3期)

(答はすべて解答用紙に記入すること)

(時 間 理科とあわせて 60分)

番 号		氏 名	
--------	--	--------	--

1 歴史分野について、次の問いに答えなさい。

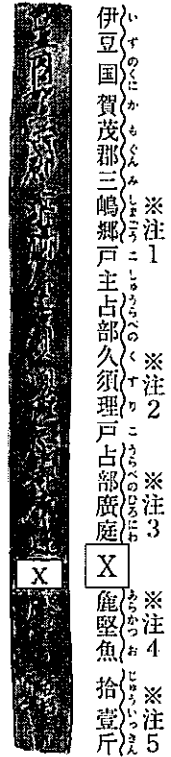
問1. 聖徳太子について書かれた説明として、正しいものはどれですか。次のア～エの文の中から1つ選び、記号で答えなさい。

- ア. 遣唐使を派遣して、中国の政治のしくみや文化を取り入れようとした。
- イ. 冠位十二階を定めて、家がらに^{ごうぞく}応じて豪族を役人に取り立てた。
- ウ. 蘇我氏とともに、天皇を中心とする国づくりをすすめた。
- エ. 飛鳥に、日本で最初の本格的な都である藤原京をつくった。

問2. 右の写真の荷札は、平城宮跡^{あつ}から発掘されたものです。
これについてあとの問いに答えなさい。

- (1) このような荷札を何といいますか、答えなさい。
- (2) 右の荷札の には、奈良時代の人々が負担したある税の名前が書かれています。あてはまる漢字1文字を答えなさい。
- (3) (2) で答えた税はどのようなものでしたか、説明しなさい。

- (注1) 伊豆国賀茂郡三嶋郷……地名
- (注2) 占部久須理……人名
- (注3) 占部廣庭……人名
- (注4) 龜堅魚……品名
- (注5) 拾壹斤……重量



問3. 次のA～Cのことがらを、時代の古いものから順に並べたとき、並び方として正しいものを、下のア～カの中から選び、記号で答えなさい。

- A. 鑑真が中国から招かれ、日本の仏教の発展に^{こうけん}貢献した。
- B. 源頼朝が征夷大將軍に任命された。
- C. 藤原頼通が平等院鳳凰堂^{ひやうどういんほうおうどう}を建てた。

- ア. A→B→C イ. A→C→B ウ. B→A→C
- エ. B→C→A オ. C→A→B カ. C→B→A

問4. 尾張^{おわり}国出身の戦国大名で、安土城の築城や、キリスト教の保護をおこなった人物はだれですか、答えなさい。

問5. 江戸幕府3代将軍徳川家光は、武家諸法度を改めて、大名が領地と江戸とを1年おきに行き来する制度を定めました。この制度を何といいますか、答えなさい。

問6. 江戸時代の都市と文化について説明した、次の文a・bの正誤の組合せとして正しいものを、下のア～エの中から選び、記号で答えなさい。

a. 江戸は、全国各地から特産物などが集められ、「天下の台所」と呼ばれた。

b. 葛飾北斎は、『東海道五十三次』をえがいたことで知られている。

ア. a. 正 b. 正 イ. a. 正 b. 誤

ウ. a. 誤 b. 正 エ. a. 誤 b. 誤

問7. 次の文A・Bは、幕末から明治時代にかけて活躍^{かつやく}した人物について書かれたものです。A・Bの文はどの人物について説明していますか、下のア～カの中からそれぞれ選び、記号で答えなさい。

A. 佐賀藩出身。国会の開設^{こうかい}が決まると立憲改進黨をつくった。

B. 薩摩藩出身。坂本龍馬の仲介により長州藩との間で薩長同盟^{さつちゆう}を結んだ。

ア. 木戸孝允 イ. 高杉晋作 ウ. 大久保利通

エ. 板垣退助 オ. 大隈重信 カ. 福沢諭吉

問8. 第一次世界大戦がはじまった年から満州事変がおこった年までにおきたできごととして、正しくないものはどれですか。次のア～エの中から1つ選び、記号で答えなさい。

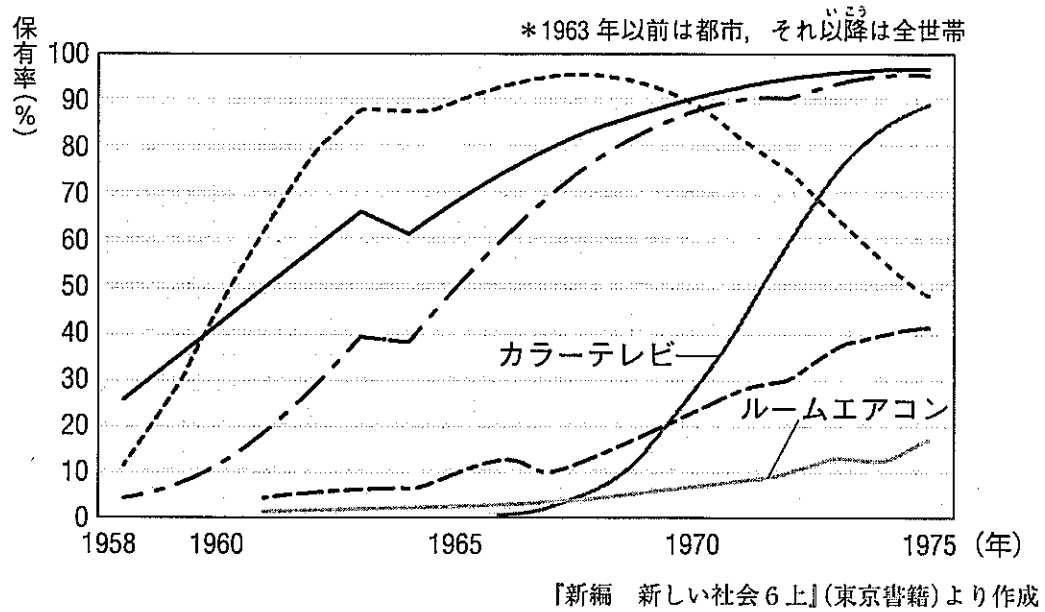
ア. 全国水平社がつくられ、差別をなくす運動がすすめられた。

イ. 米の値段が急に上がり、米の安売りを求める運動が各地に広がった。

ウ. 関東大震災がおこり、東京や横浜を中心に大きな被害^{ひがい}がでた。

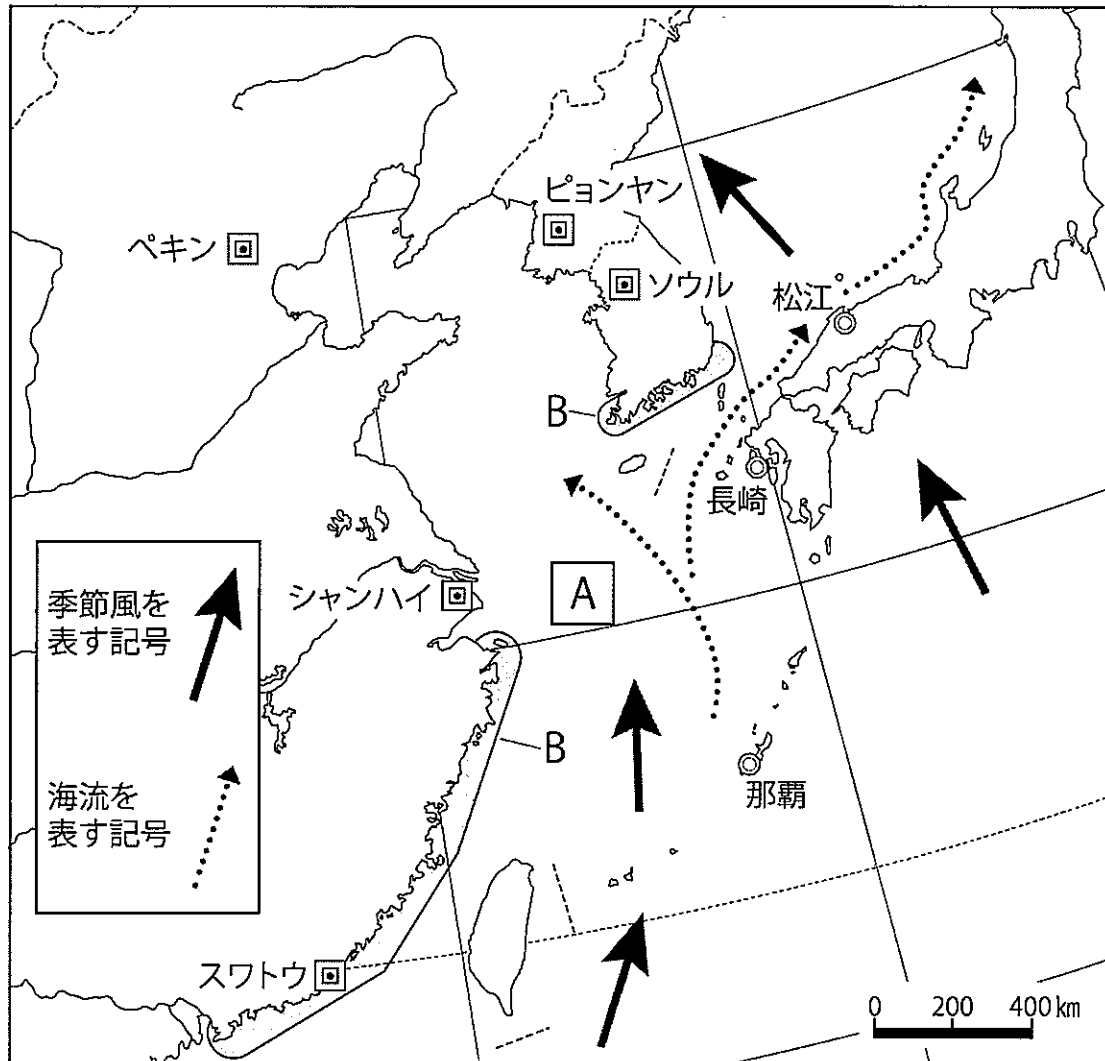
エ. 選挙法が改正され、初めて女性の国会議員が生まれた。

問9. 次のグラフから、電化製品の普及の様子を読み取ることができます。東京オリンピックが開かれた時点で、保有率が80パーセントを超えていた電化製品は何ですか。下のア～エの中から選び、記号で答えなさい。



- ア. 白黒テレビ イ. 電気冷蔵庫 ウ. 自動車 エ. 電気洗濯機

2 地理分野について、次の地図を見て、下の問いに答えなさい。



『新詳高等地図』(帝国書院)より作成

問1. 地図中の長崎の位置を表すおよその緯度と経度の組合せとして正しいものを、次のア～エの中から選び、記号で答えなさい。

- | | |
|-----------------|-----------------|
| ア. 北緯34度－東経130度 | イ. 北緯24度－東経130度 |
| ウ. 北緯34度－東経120度 | エ. 北緯24度－東経120度 |


問2. 地図中のペキンから、スワトウまでのおよその距離として、最も近いのはどれですか。次のア～エの中から選び、記号で答えなさい。

ア. 1,000km イ. 2,000km ウ. 3,000km エ. 4,000km


問3. 地図中の A の海の名前を答えなさい。

問4. 地図中のB で示したところからは、日本でもよく見られる海岸の地形を読み取ることができます。その地形の名前を答えなさい。

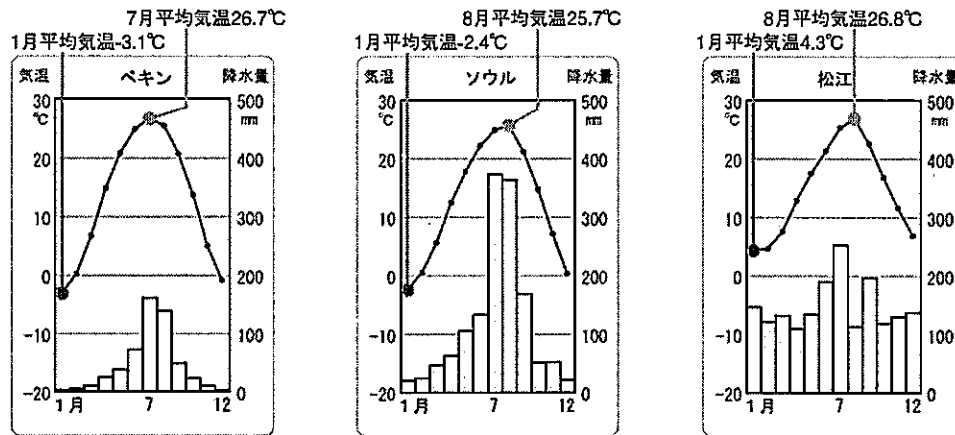
問5. 地図中の国々では、^{こらい}古来より、船を使って行き来をしていました。海をわたるときは、季節風をとらえたり、海流に乗ったりしていました。

(1) 地図中に矢印  で表されている季節風は、何月ごろに吹く季節風ですか。ア～エの中から選び、記号で答えなさい。

ア. 1月ごろ イ. 4月ごろ ウ. 7月ごろ エ. 10月ごろ

(2) 地図中に矢印  で表されている海流の名前を答えなさい。

問6. 次のグラフは、地図中のペキン、ソウル、松江について、月別の降水量（棒グラフ）と平均気温（折れ線グラフ）を表しています。それぞれのグラフについて書かれた説明として正しいものを、ア～エの文の中から1つ選び、記号で答えなさい。



『デジタル教科書 新編 新しい社会 地理』(東京書籍)より作成

- ア. ペキン、ソウル、松江はすべて、冬には月別の平均気温が0℃を下回る。これは、3つの都市が赤道近くにならんでいるからである。
- イ. 夏と冬の月別平均気温の差が最も大きい都市は、ソウルである。これは、季節風によって、冬の気温がさらに下がるからである。
- ウ. ペキン、ソウル、松江はすべて、6月に降水量が200mmをこえる。これは、梅雨前線がとどまるからである。
- エ. ペキンやソウルは、12月の降水量が50mmよりも少ないが、松江は12月の降水量が100mmをこえる。これは、季節風によって、松江に雪が多く降るからである。

問7. 下の写真は、植林の様子をうつしたものです。いくつかある植林の目的について、
 (1) 防災、(2) 地球環境保護の視点から、それぞれ1行以内で説明しなさい。



NPO法人田主丸町緑の応援団ホームページより

問8. 日本、中国、韓国は、自動車工業が発展しています。次のグラフは、主な国の生産台数のうつりかわりを示しています。グラフのX～Zにそれぞれあてはまる国名の組合せとして正しいものを、下のア～カの中から選び、記号で答えなさい。

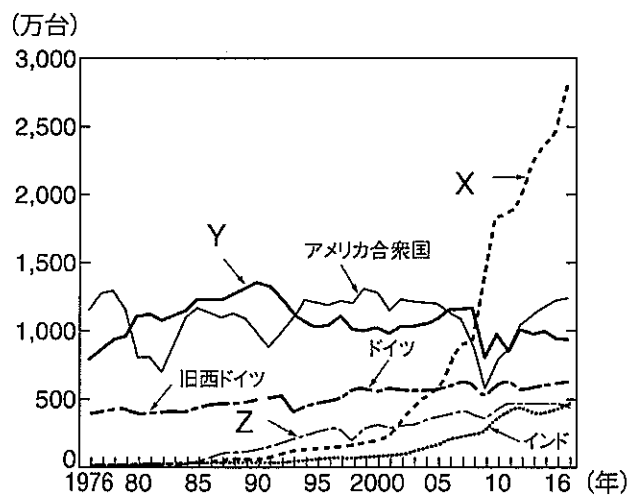


図 主な国の自動車生産のうつりかわり

『日本国勢図会2017/18』(矢野恒太記念会)より作成

	ア	イ	ウ	エ	オ	カ
X	日本	日本	中国	中国	韓国	韓国
Y	中国	韓国	日本	韓国	日本	中国
Z	韓国	中国	韓国	日本	中国	日本

問9. 次の表は、現在の日本が中国または韓国から輸入しているもの（上位3位）についてまとめたものです。A・Bには国名が、C・Dには貿易品が当てはまります。AとCの正しい組合せを、下のア～エの中から選び、記号で答えなさい。

表 中国または韓国からの輸入品（2016年, 単位 億円）

国名	1位	2位	3位	輸入額の合計
A	機械類 78,548	C 19,080	金属製品 5,782	170,189
B	機械類 8,383	D 2,499	石油製品 2,395	27,220

【日本国勢図会2017/18】(矢野恒太記念会)より作成

- ア. A. 中国 C. 衣類 イ. A. 韓国 C. 衣類
 ウ. A. 中国 C. 石炭 エ. A. 韓国 C. 石炭

3 公民分野について、次の問いに答えなさい。

問1. 2017年5月に、韓国で新しく大統領となった人物はだれですか、次のア～エの中から選び、記号で答えなさい。

ア. パククネ 朴槿恵 イ. パンギムン 潘基文 ウ. シーチンピン 習近平 エ. ムンジェイン 文在寅

問2. 日本の裁判について書かれた説明として、正しくないものはどれですか。次のア～エの文の中から1つ選び、記号で答えなさい。

- ア. 最高裁判所は、都道府県ごとに設置されている。
- イ. 1つの事件について、最大3回まで裁判を受けることができる。
- ウ. 刑事裁判では、罪を犯したかどうか判断される。
- エ. 国民のさまざまな意見を取り入れるために、裁判員制度がある。

問3. 日本国憲法に定められている国民の義務を、3つすべて答えなさい。

問4. 日本国憲法が公布された年月日を答えなさい。その日付は、現在「文化の日」として、国民の祝日となっています。

問5. 天皇の仕事について書かれた説明として、正しくないものはどれですか。次のア～カの中から2つ選び、記号で答えなさい。

- ア. 文化勲章を授与する。
- イ. 外国の大使および公使をもてなす。
- ウ. 予算案を作って国会に提出する。
- エ. 内閣総理大臣を任命する。
- オ. 裁判官をやめさせるかどうかを決める。
- カ. 法律や条約を公布する。