

2018 年度

社 会
(1 期)

(答はすべて解答用紙に記入すること)

(時 間 45分)

| | | | |
|--------|--|--------|--|
| 番 号 | | 氏 名 | |
|--------|--|--------|--|

1 歴史分野について、次の問いに答えなさい。

問1. 次のア～ウの文の（ A ）～（ E ）に、あてはまる言葉や数字を答えなさい。

ア. 福岡県の（ A ）遺跡からは、今からおよそ2300年前の水田のあとが見つかった。

イ. （ B ）県の江田船山古墳からは、（ C ）を材料とした刀が出土し、その刀には「ワカタケル大王」の名前が刻まれている。

ウ. 仏教が日本に伝えられたのは、（ D ）世紀といわれる。聖徳太子が定めた『（ E ）』では、仏教をあつく信仰することが役人に求められた。

問2. 平城京について、知っていることをできるだけ多く、述べなさい。

問3. 次のA～Cのことがらを、時代の古いものから順に並べたとき、並び方として正しいものを、下のア～カの中から選び、記号で答えなさい。

A. 平清盛は、太政大臣の地位につき、一族で朝廷内の権力をにぎった。

B. 紫式部や清少納言が、かな文字による文学作品を書き、国風文化を発展させた。

C. 保元の乱につづき、平治の乱がおこり、朝廷の中を二分する争いがおこった。

ア. A→B→C

イ. A→C→B

ウ. B→A→C

エ. B→C→A

オ. C→A→B

カ. C→B→A

問4. 征夷大將軍について書かれた文として、正しくないものはどれですか。次のア～エの中から1つ選び、記号で答えなさい。

ア. もとは、朝廷に従わなかった東北地方の人々を武力で従わせる役職のことだった。

イ. 源頼朝は、平氏がほろびた7年後の1192年に、征夷大將軍となった。

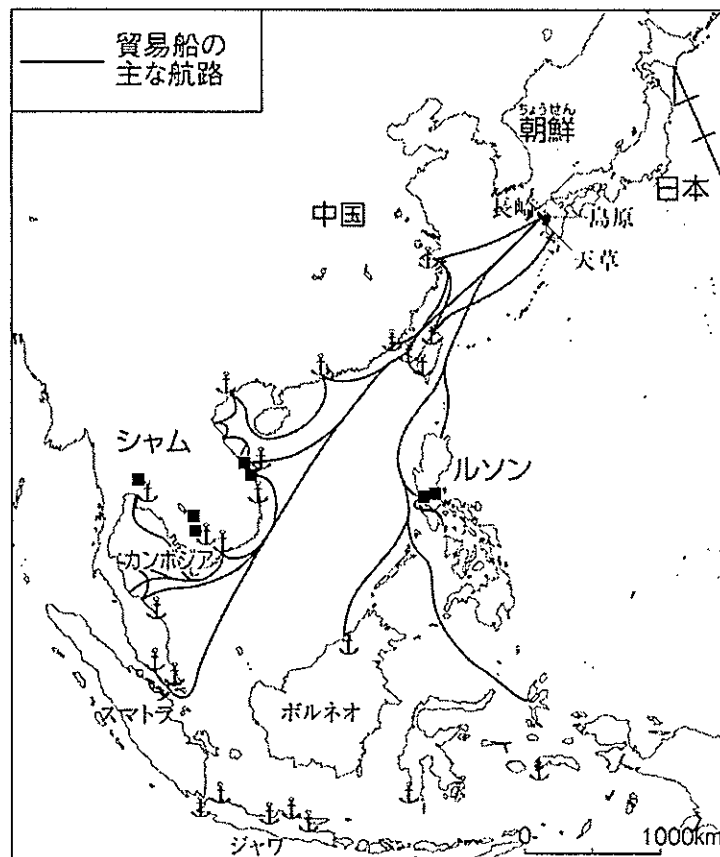
ウ. 任命するのは朝廷であり、鎌倉時代には、武士の頭を意味するようになった。

エ. 豊臣秀吉は、天下を統一して征夷大將軍となり、朝鮮に大軍をおくった。

問5. 次の写真は、日本の伝統芸能をうつしたものです。この伝統芸能は何ですか、答えなさい。



問6. 次の図は、江戸時代の初めごろの、日本とアジア各地との貿易の様子をあらわしたものです。図を見て、下の問いに答えなさい。



【小学社会6上】(教育出版)

- (1) 図の■は、ある共通の特色をもつ町です。これらの町は何とよばれますか、答えなさい。
- (2) 図の中のルソンは、現在のどこに属していますか。次のア～エの中から選び、記号で答えなさい。

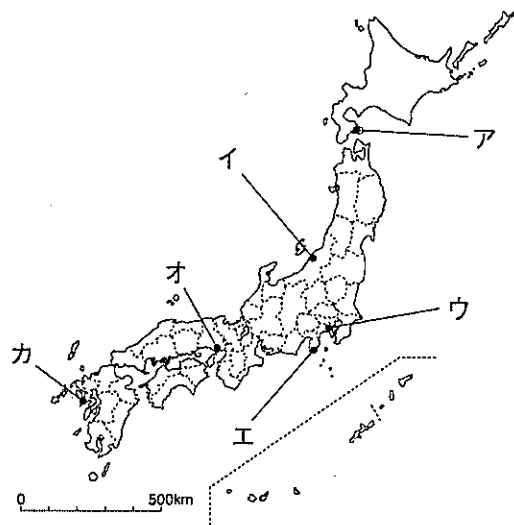
ア. インドネシア イ. フィリピン ウ. 台湾 エ. パラオ

- (3) 日本人の海外渡航と帰国は、江戸幕府によって禁止されました。それは何年ですか。次のア～エの中から選び、記号で答えなさい。

ア. 1635年 イ. 1637年 ウ. 1639年 エ. 1641年

問7. 江戸幕府が開国にあたり結んだ条約について、次の問いに答えなさい。

- (1) 1854年に結ばれた条約の名前を答えなさい。
- (2) (1) の条約で開港された2つの港を、地図のア～カの中から選び、記号で答えなさい。



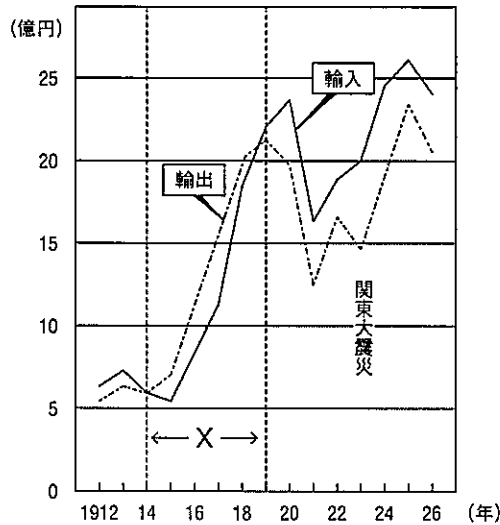
- (3) 1858年に結ばれた条約には、外国人が日本で罪を犯しても、日本の法律では裁かれないという内容がふくまれました。これは何という権利を認めたからですか、答えなさい。

問8. 次のA～Cのことがらを，時代の古いものから順に並べたとき，並び方として正しいものを，下のア～カの中から選び，記号で答えなさい。

- A. 日露戦争が始まった。
- B. 小村寿太郎が条約の改正に成功した。
- C. ノルマントン号事件がおこった。

- ア. A→B→C イ. A→C→B ウ. B→A→C
- エ. B→C→A オ. C→A→B カ. C→B→A

問9. 次のグラフは，日本の輸出入の変化を表したものです。グラフを見て，下の問いに答えなさい。



『最新日本史図表』(第一学習社)より作成

(1) グラフのXの期間に，輸出が輸入を上回り，日本は好景気となりました。その理由を，説明しなさい。

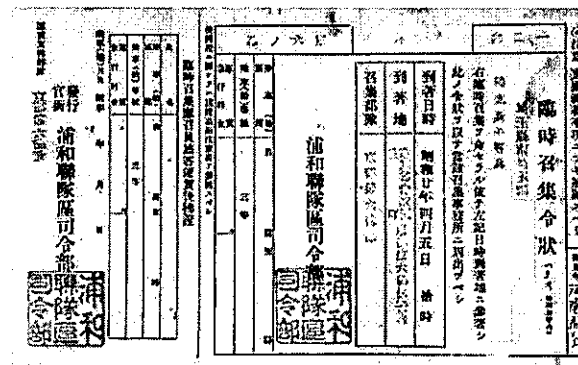
(2) グラフについて説明した次の文 a・b の正誤の組合せとして正しいものを選び，記号で答えなさい。

- a. 関東大震災が起きた年には，輸出入額ともに前年に比べて減少している。
- b. 普通選挙法が制定された年には，輸入額が最大となっている。

- ア. a. 正 b. 正 イ. a. 正 b. 誤
- ウ. a. 誤 b. 正 エ. a. 誤 b. 誤

問10. 太平洋戦争について、次の問いに答えなさい。

- (1) 太平洋戦争のきっかけとなった、日本軍による真珠湾攻撃が行われた年月日を答えなさい。
- (2) 戦争中、人々の生活は大きく変化しました。下の写真は、国民を兵士として集めるために出された召集令状ですが、この令状を当時の人々は何とよんでいましたか。漢字2文字で答えなさい。



『日本史のライブラリー』(とうほう)

- (3) 戦争中、日本が同盟を結んでいた国を次のア～エの中から選び、記号で答えなさい。

ア. イギリス イ. ドイツ ウ. オランダ エ. フランス

- (4) 戦争で負けた日本は、1951年にアメリカで開かれた講和会議に参加し、平和条約を結びました。講和会議が開かれた場所を次のア～エの中から選び、記号で答えなさい。

ア. サンフランシスコ イ. ワシントン ウ. ニューヨーク エ. ポーツマス

問11. 日本は、1950年代から1970年代前半にかけて、高度経済成長をむかえました。この時期について説明した文として、正しくないものはどれですか。次のア～エの中から1つ選び、記号で答えなさい。

- ア. 東京でオリンピックが開かれた。
- イ. 「三種の神器」とよばれる電化製品が家庭に広まった。
- ウ. 元号が昭和から平成に変わった。
- エ. 沖縄が日本に復帰した。

2 地理分野について、下の問いに答えなさい。

紀伊半島は、①太平洋に面している日本最大の半島です。この地域には、三重県・②奈良県・和歌山県などが位置しています。半島の大部分は険しい山地で、山が海の近くまでせまっており、海岸線が複雑に入り組んだ（ A ）がみられます。そのため沿岸部には天然の良港が多く、おだやかな入り江を利用した③養殖業がさかんです。また、半島の沖合には、暖流の（ B ）が流れています。一方で、火山大国といわれる日本ですが、現在この地域には活動している火山がありません。

紀伊半島で行われているおもな産業が、果樹栽培と林業です。これらの産業が発達した背景には、紀伊半島の山がちな地形と④特徴的な気候が深く関係しています。果樹栽培は、和歌山県の特産物であるミカンや X などが有名です。林業では、特に吉野（ C ）が、国産の木材の中でも品質が高いといわれています。

また、紀伊半島の東には、日本最大の出荷額をほこる⑤工業地帯が広がっています。高度経済成長期の1960年代には、三重県のコンビナートから発生した⑥大気汚染や水質汚染によって、四大公害病の1つである（ D ）が社会問題となりました。現在は、⑦市民や企業、政府が協力し、住みやすく安全で良い環境を保っています。

問1. （ A ）～（ D ）にあてはまる言葉を答えなさい。なお、（ C ）には樹木の名前が入ります。

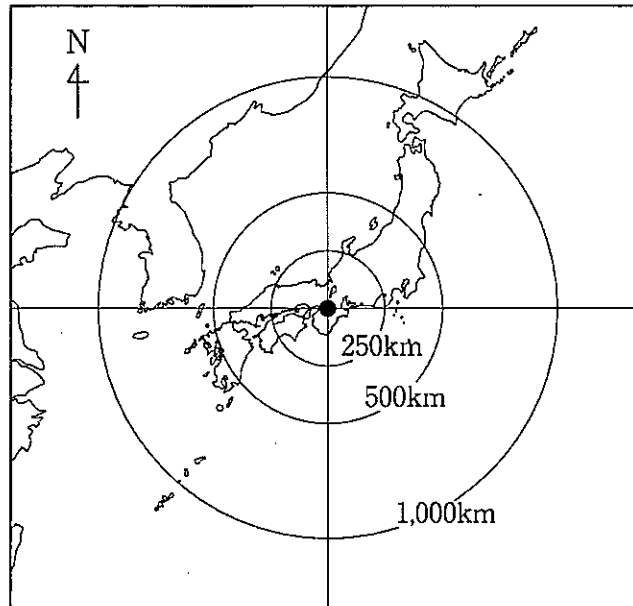
問2. X には、和歌山県が日本で最も多く生産している果物が入ります。その果物を、次のア～オの中から2つ選び、記号で答えなさい。

ア. ブドウ イ. カキ ウ. サクランボ エ. リンゴ オ. ウメ

問3. 下線部①について、太平洋に面している半島として、正しくないものはどれですか。次のア～エの中から1つ選び、記号で答えなさい。

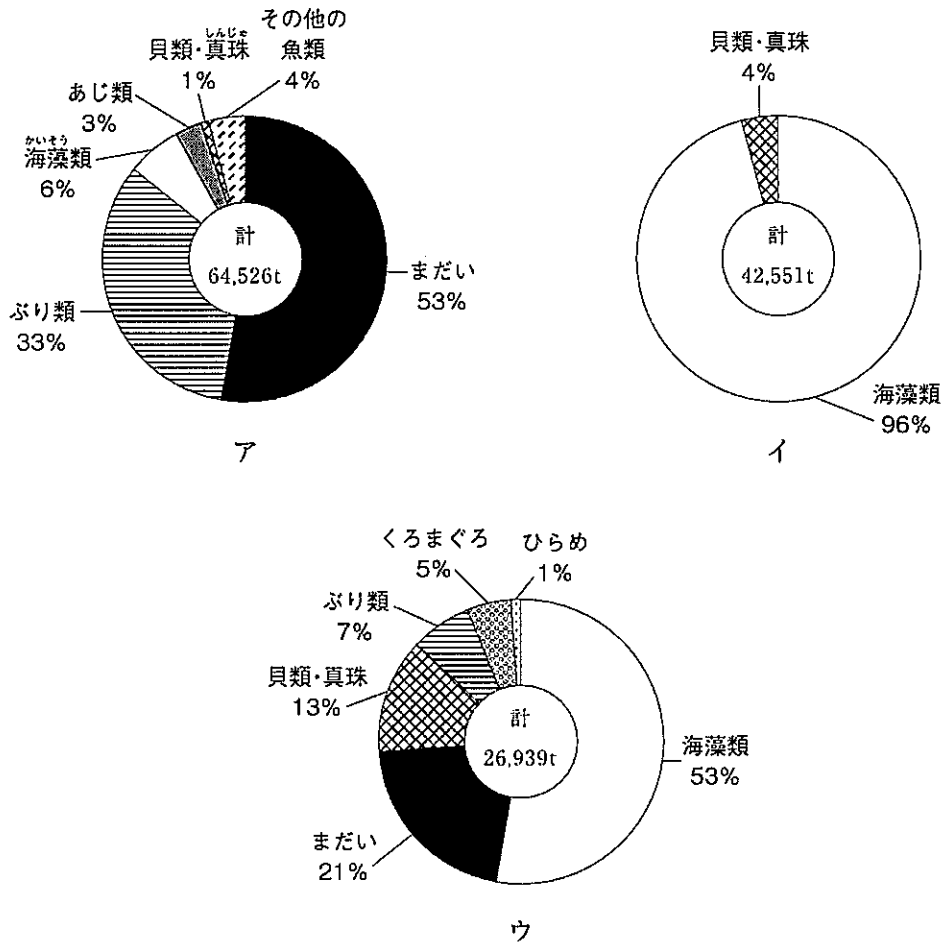
ア. 伊豆半島 イ. 房総半島 ウ. 薩摩半島 エ. 能登半島

問4. 下線部②について、次の地図は、奈良県奈良市を中心としたものです。地図の円と数字は、中心地点●からの距離を示しています。この地図から読み取れることとして正しいものを、下のア～エの中から1つ選び、記号で答えなさい。



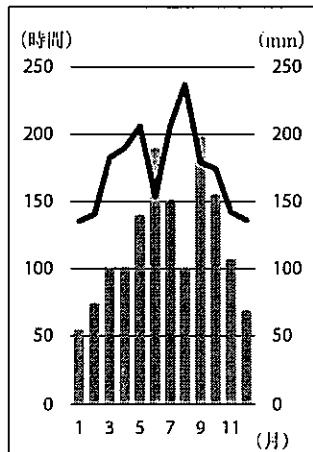
- ア. 本州を東西方向に測った距離は、約500kmである。
- イ. 那覇から札幌までの距離は、約1,000kmである。
- ウ. 奈良から1,000kmの範囲内に、韓国が入る。
- エ. 奈良から見て、仙台は北西に位置する。

問5. 下線部③について、次のグラフは、それぞれ三重県、愛媛県、福岡県における、養殖業の種類別の収穫量を割合で表したものです。三重県のグラフを、ア～ウの中から選び、記号で答えなさい。

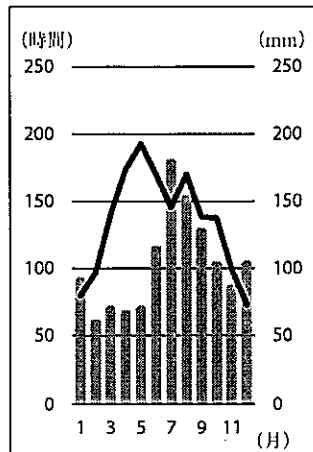


漁業・養殖業生産統計(農林水産省)2015年より作成

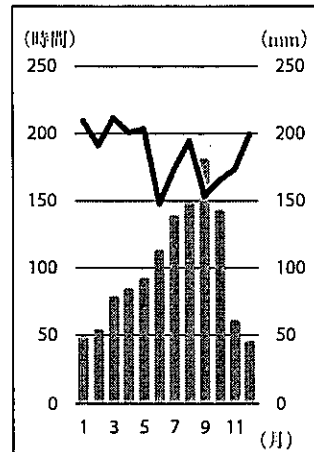
問6. 下線部④について、次のグラフは、それぞれ和歌山市、甲府市、山形市の気象観測地点における、月別の降水量（棒グラフ）と日照時間（折れ線グラフ）を表したものです。和歌山市のグラフを、ア～ウの中から選び、記号で答えなさい。また、それを選んだ理由を答えなさい。



ア



イ

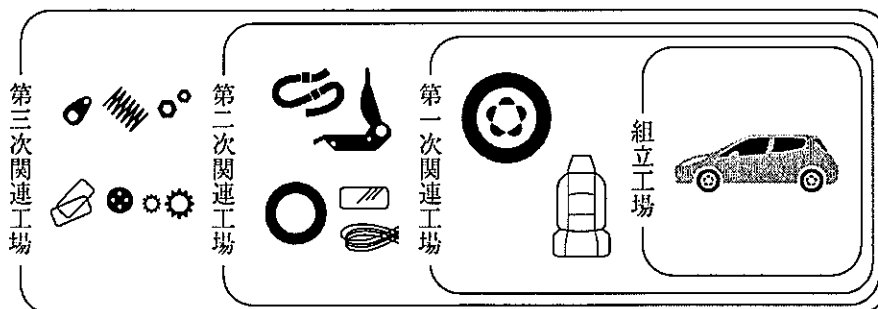


ウ

1997年～2016年の平均、気象庁資料より作成

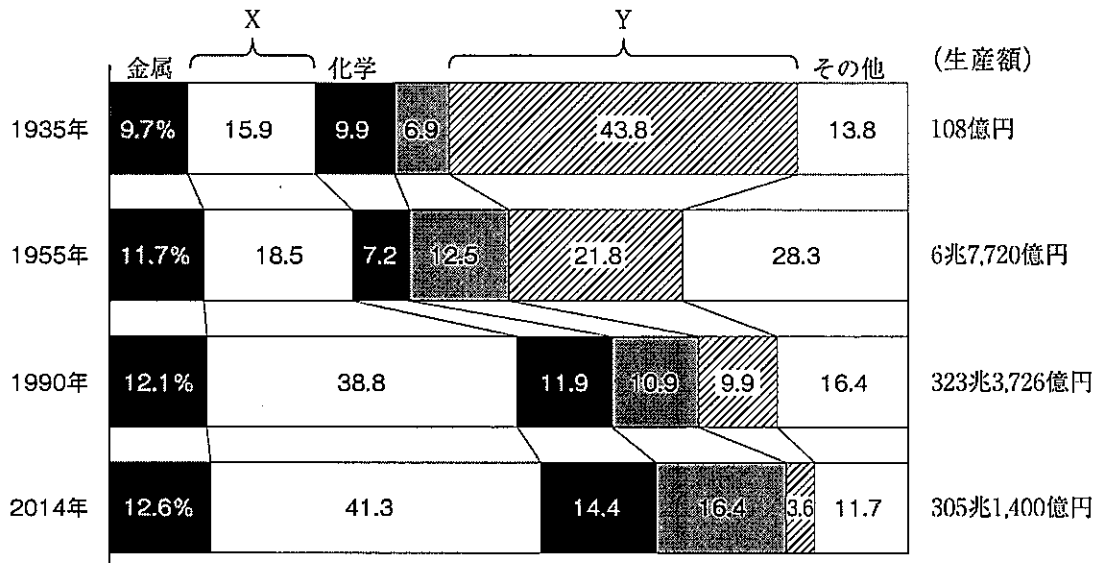
問7. 下線部⑤について、次の問いに答えなさい。

- (1) 日本は、自動車の生産がさかんです。自動車は、1台あたり約3万もの部品を組立ててできています。次の図は、自動車の組立工場と、関連工場との関係を表したものです。それぞれの部品を別々の関連工場で作くり、組立工場で組立てることには、どのような長所と短所がありますか。1つずつ説明しなさい。



【社会5】(光村図書)より作成


(2) 次の図は、日本において工業にたずさわる人の、産業別の割合を表したものです。図のXとYにあてはまる産業の組合せとして正しいものを、下のア～エの中から選び、記号で答えなさい。




【データブック・オブ・ザ・ワールド2017】(二宮書店)より作成

- | | | | | | |
|----|--------|--------|----|--------|--------|
| ア. | X - 機械 | Y - 食品 | イ. | X - 機械 | Y - 繊維 |
| ウ. | X - 食品 | Y - 繊維 | エ. | X - 食品 | Y - 機械 |


問8. 下線部⑥について、次の図は、日本にある発電所のうち、火力、原子力、水力、地熱発電所の場所を表しています。近年、大気汚染を起こしにくい発電として、地熱発電が注目されていますが、地熱発電所と原子力発電所の図を、ア～エの中からそれぞれ選び、記号で答えなさい。




ア



イ



ウ



エ

googleマップより作成

問9. 下線部⑦について、市民や企業、政府が協力して取り組む活動の中に、植林があります。その活動は、「山と○をつなぐ植樹祭」や、「森は○の恋人」とよばれています。○の中に共通してあてはまる言葉を、漢字1文字で答えなさい。

3 公民分野について、次の文Ⅰ・Ⅱを読み、下の問いに答えなさい。

Ⅰ. 2017年、多くの国々で①選挙が行われ、②政治上の最高責任者が変わりました。3月にはオランダにおいて総選挙が行われ、③与党が勝利しました。4月・5月には(A)で大統領選挙が行われ、マクロン氏が就任しました。

この2つの国の選挙において、注目されたのは、人々の④ヨーロッパ連合(EU)に対する姿勢です。現在EUでは、⑤政治上や宗教上の理由によって迫害を受けたり、紛争や環境の悪化などで生命をおびやかされたりしたために、他国へ逃れた人々への対応について話し合われています。

問1. (A)にあてはまる国名を答えなさい。

問2. 下線部①について、次の問いに答えなさい。

(1) 日本における選挙で立候補できる年齢や投票できる年齢について、次の表のX～Zにあてはまる数字を答えなさい。

| | | | | |
|----------|---------------|----|---------|----|
| 立候補できる年齢 | 衆議院議員 | X歳 | 投票できる年齢 | Z歳 |
| | 参議院議員 | Y歳 | | |
| | 都道府県知事 | Y歳 | | |
| | 市(区)町村長 | X歳 | | |
| | 都道府県、市(区)町村議員 | X歳 | | |

(2) 衆議院の議員定数は何名ですか。次のア～エの中から選び、記号で答えなさい。

ア. 480名 イ. 465名 ウ. 250名 エ. 242名

問3. 下線部②について、日本の政治は内閣が行っています。内閣について説明した次の文章で、正しいものをア～エの中から1つ選び、記号で答えなさい。

- ア. 予算案を作る。
- イ. 裁判官をやめさせるかどうかを決める。
- ウ. 法律を制定する。
- エ. 外国と結んだ条約を認めるかどうかを決める。

問4. 下線部③について、与党に対し、政権を担当していない政党は何といいますか、答えなさい。

問5. 下線部④について、2016年6月にEUを離脱するかを決める投票が行われ、離脱が決定した国はどこですか、答えなさい。

問6. 下線部⑤について、このような人々を何といいますか、答えなさい。

Ⅱ. 国際連合(国連)は、⑥第二次世界大戦が終わった1945年に、世界の平和を守ることを目的としてつくられた組織です。⑦国連には様々な機関があります。主な機関として、総会、(B)、事務局、国際司法裁判所などがあります。(B)は世界の平和について責任を負う機関で、⑧5か国の常任理事国と、10か国の非常任理事国で成り立っています。2017年の非常任理事国には⑨カザフスタンやエジプト、ウルグアイなどが選ばれています。

問7. (B)にあてはまる言葉を答えなさい。

問8. 下線部⑥について、第二次世界大戦中に、日本には原子爆弾が投下されました。長崎に投下された年月日を答えなさい。

問9. 下線部⑦について、下の写真は、2017年7月7日に国際連合の本部で、ある条約が採択されたことを受けて、撮られた写真です。その条約の名前は何か、()にあてはまる言葉を答えなさい。

() 禁止条約



2017年7月8日 朝日新聞DIGITAL ホームページより

問10. 下線部⑧について、5か国のうち、アジアの常任理事国を次のア～エの中から1つ選び、記号で答えなさい。

ア. インド イ. 韓国 ウ. 日本 エ. 中国

問11. 下線部⑨について、これらの国々には、イスラム教の信者が多くいます。イスラム教について、次の問いに答えなさい。

(1) イスラム教の人々は1日5回礼拝をしますが、どこに向かって礼拝をしますか。都市名を次のア～エの中から選び、記号で答えなさい。

ア. エルサレム イ. バルセロナ ウ. メッカ エ. ローマ

(2) 次の写真のポスターは、成田空港に掲示されていたものです。このポスターの矢印で示されているマークは、何を伝えるためにありますか、簡単に説明しなさい。

