

2017 年度

社 会  
(3期)

(答はすべて解答用紙に記入すること)

(時 間 理科とあわせて 60分)

番 号		氏 名	
--------	--	--------	--

# 1 歴史分野について、次の問いに答えなさい。

問1. 7世紀から9世紀までに起きたことがらについて書かれた文として、正しくないものはどれですか。次のア～エの中から1つ選び、記号で答えなさい。

- ア. 中国の都にならって、平城京がつくられた。
- イ. 聖武天皇が、唐招提寺<sup>とうしやうだいじ</sup>を建てた。
- ウ. 中大兄皇子と中臣鎌足が、蘇我氏をほろぼした。
- エ. 現存最古の歌集とされる『万葉集』が成立した。

問2. 次の文A・Bは、12世紀から13世紀のある人物について書かれたものです。A・Bの文は誰について説明していますか、下のア～カの中からそれぞれ選び、記号で答えなさい。

- A. 平治の乱をおさめたあと、武士として初めて太政大臣となった。
- B. 承久の乱が起きたとき、頼朝のご恩を説き、武士たちをまとめた。

- ア. 北条政子      イ. 北条時宗      ウ. 源頼朝
- エ. 平清盛      オ. 平将門      カ. 足利尊氏

問3. 次の文章と図は、室町時代の文化に関するものです。( A )～( C )にあてはまる言葉を答えなさい。( B )はひらがなでもかまいません。

図1は、京都の慈照寺<sup>じしやうじ</sup>の中にある、東求堂<sup>とうぐどう</sup>の部屋です。このような部屋の様式を( A )といいます。こうした部屋のふすま絵や、床の間をかざる掛け軸<sup>かかけ</sup>に好んで使われたのが図2のような( B )画です。また、武士や貴族の間では、( C )を飲む習慣が広まり、その作法はやがて千利休によって大成されました。現在でもさまざまな流派を生み出しながら、多くの人々に楽しまれています。

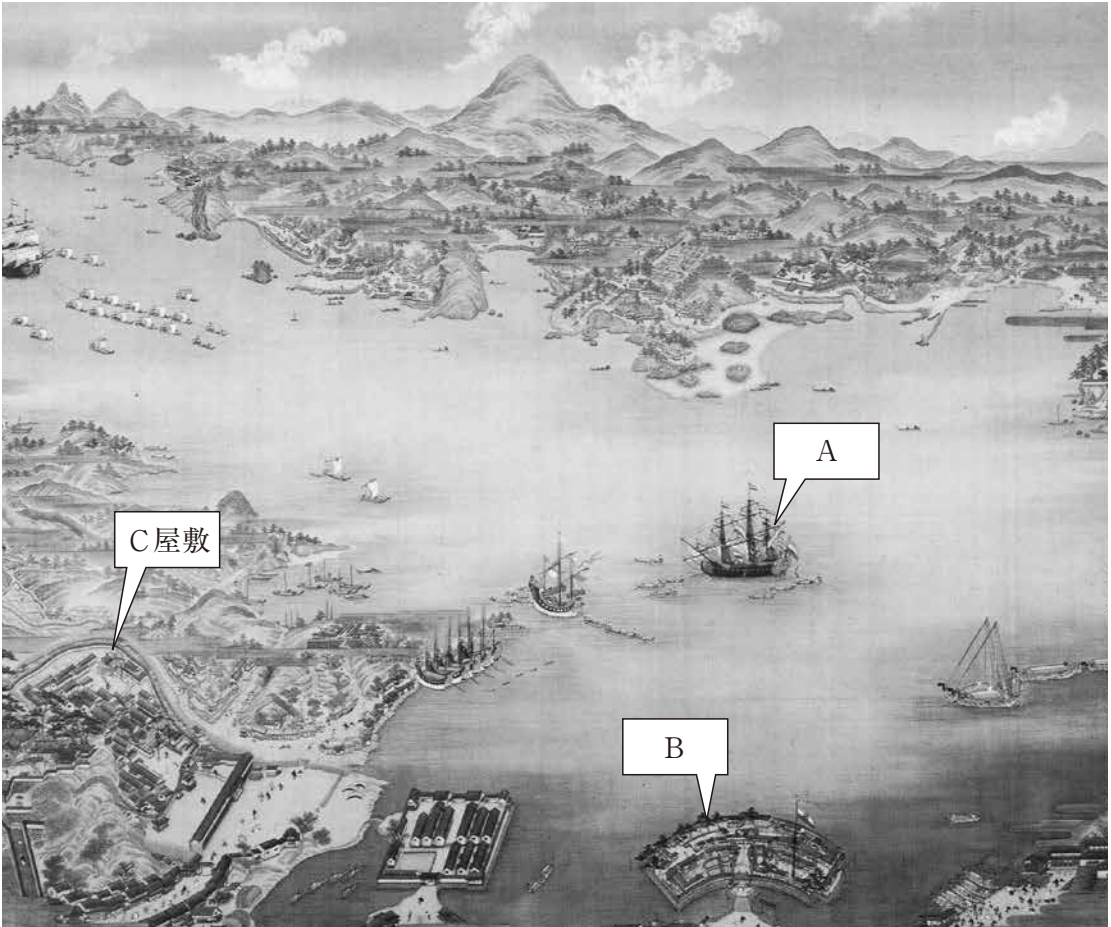


图 1



图 2

問4. 次の図は、18世紀末の、ある港の様子をえがいたものです。図を見ながらあとの問いに答えなさい。



(1) Aは、どこの国の船と考えられますか。次のア～エの中から選び、記号で答えなさい。

ア. オランダ    イ. スペイン    ウ. ポルトガル    エ. イギリス

(2) Bは何といいますか、答えなさい。

(3) Cにあてはまる言葉を、漢字2字で答えなさい。

問5. 大日本帝国憲法と国会（帝国議會）に関連する文として、正しくないものはどれですか。次のア～エの中から1つ選び、記号で答えなさい。

- ア. 憲法は、ドイツの憲法を参考にしてつくられた。
- イ. 憲法は、天皇から国民にあたえられる形で発布された。
- ウ. 国会（帝国議會）は、参議院と衆議院の二院制であった。
- エ. 憲法制定後、イギリスと交渉し、治外法権の廃止に成功した。

問6. 次のA～Cのことがらを、時代の古いものから順に並べたとき、並び方として正しいものを、下のア～カの中から選び、記号で答えなさい。

- A. 日本が韓国を併合した。
- B. 第一次世界大戦がはじまった。
- C. 日露戦争がはじまった。

- ア. A→B→C                      イ. A→C→B                      ウ. B→A→C
- エ. B→C→A                      オ. C→A→B                      カ. C→B→A

問7. 1931年、日本は中国の東北部に進出するために攻撃を始めました。中国の東北部は当時、何と呼ばれていましたか、答えなさい。

問8. 第二次世界大戦中、政府の方針により、人々の暮らしは大きく制限されました。米や野菜、衣類などを国が管理して割り当てる制度を何といいますか、答えなさい。

問9. 日本では選挙制度の改革が何度か行われてきました。次の表は、日本の衆議院選挙における、有権者数と、その総人口に対する割合をあらわしています。①1928年と②1946年において、総人口に対する有権者の割合が増加しているのはなぜですか、それぞれの理由を説明しなさい。

実施日	有権者数	総人口に対する割合
1920年5月	307万人	5.5%
1928年2月	1241万人	19.8%
1946年4月	3688万人	50.4%

『2016 新政治・経済資料』（実教出版）より作成

## 2 地理分野について、次の問いに答えなさい。

問1. 下の地図ア～エは、次の①～④のいずれかを都道府県ごとに示したものです。

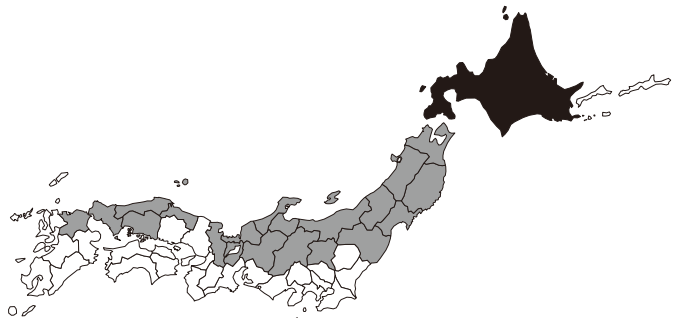
- ①平均標高（1995年，国土地理院ホームページより作成）
- ②65歳以上の人口の割合（2015年，『データ・ブック・オブ・ザ・ワールド』より作成）
- ③夏が明けて雪が初めて降った時期（1981年～2010年の平均，気象庁ホームページより作成）
- ④人口密度（2015年，『新詳高等地図』より作成）

※地図のぬり分けは、色が濃いほど「高い」または「早い」、色が薄いほど「低い」または「遅い」ことを示しています。

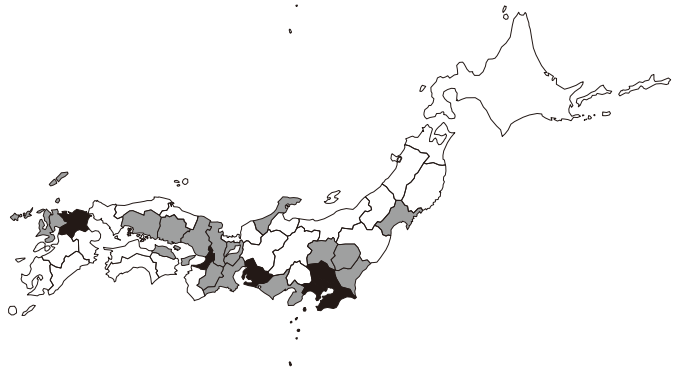
※北方領土はデータがないため白くなっています。

①平均標高と②65歳以上の人口の割合を表す地図として正しいものを、それぞれ1つずつ選び、記号で答えなさい。

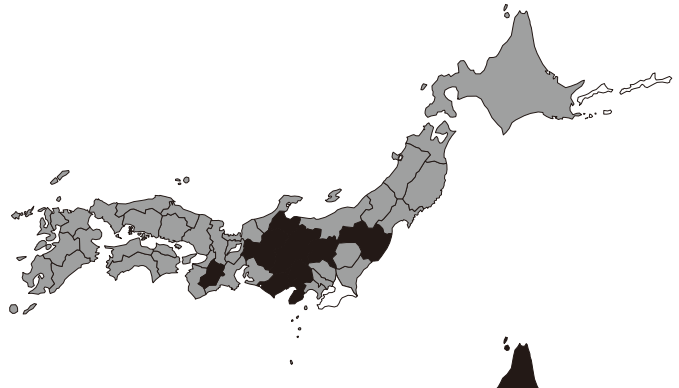
ア.



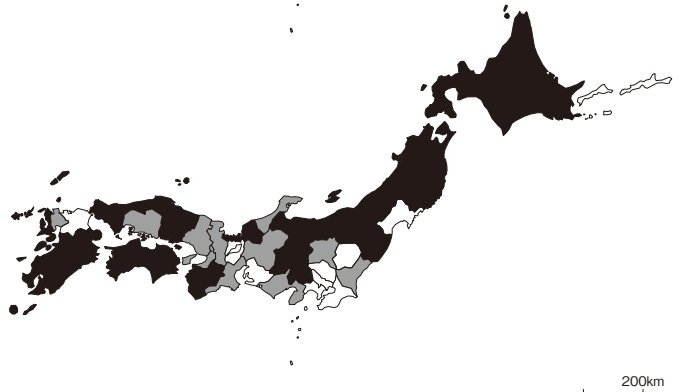
イ.



ウ.



エ.



問2. 次の文ア～ウは、それぞれ新潟県・長野県・高知県のいずれかについて書かれたものです。これを読み、下の問いに答えなさい。

ア. ①温暖な気候を活かした野菜の栽培がみられ、海岸にはビニールハウスが多く並んでいます。また漁業もさかんで、カツオの漁獲量が多いことで有名です。

イ. 冬場につくられる工芸品として、小千谷縮<sup>おぢやちぢみ</sup>が有名です。日本ではめずらしく、②石油や天然ガスが採掘<sup>さいくつ</sup>できます。近年は、アジアへの玄関口となっています。

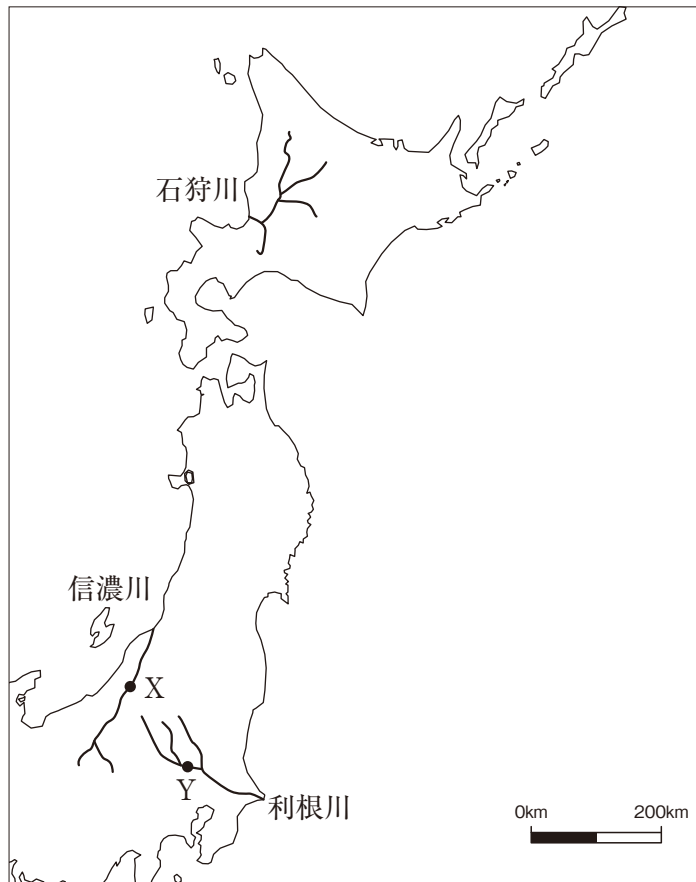
ウ. 野菜や果樹の栽培がさかんで、電子機器の工場も集中しています。東に位置する市には、戦国大名の真田氏が本拠地<sup>ほんきょち</sup>とした城跡<sup>しろあと</sup>があり、多くの観光客が訪れています。

(1) 新潟県について書かれたものを、ア～ウの中から選び、記号で答えなさい。

(2) 下線部①について、この栽培方法を何といいますか、答えなさい。ひらがなでもかまいません。

(3) 下線部②について、現在、日本が最も多く石油を輸入している国はどこですか、答えなさい。

問3. 次の地図1を見て、下の問いに答えなさい。

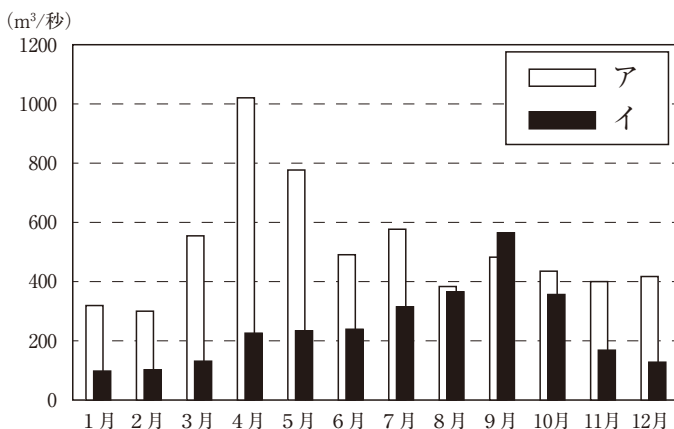


地図1

- (1) 石狩川は、明治時代の記録では350km以上の長さがあったとされています。しかし、現在は明治時代より約100km短い、268kmとなっています。その理由として正しいものを、次のア～エの中から1つ選び、記号で答えなさい。
- ア. 流れる水の量が減って、川のはじまりが下流の方へ移動してしまったから。
  - イ. 大きな土砂災害が起きて、上流の一部がうまってしまったから。
  - ウ. 上流の地域に街が開発されて、人工的に川の一部をうめてしまったから。
  - エ. 洪水が起きやすい川だったので、人工的に川の流れを変えたから。



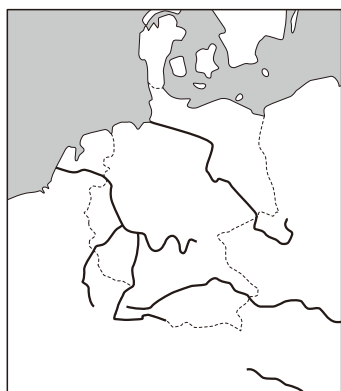
- (2) 次の図のア・イは、それぞれ地図1における地点Xか地点Yにおいて、流れる水の量の月別変化を示したものです。地点Xで調査されたものは、図のアとイのうちどちらですか、答えなさい。また、そのように考えた理由を述べなさい。



1989年～2004年の平均値，国土交通省北陸地方整備局ホームページより作成

- (3) 日本には多くの川が流れていますが、川に船を浮かべて荷物などを運ぶ「河川水運」は、あまり利用されていません。それは、日本の川と地形に、ある特徴があるからです。

次の地図2は、河川水運の利用がさかんなドイツを流れる主な川を、地図3は、ドイツの標高が高い地域に色をぬってあらわしたものです。ドイツとくらべて、日本の川と地形にはどのような特徴がありますか。地図1や地図2・3を参考にして、答えなさい。



地図2

0 200km



地図3

500m以上  
 0m以上  
 500m未満

### 3 公民分野について、次の問いに答えなさい。

問1. 東京築地市場から、2016年11月7日に移転が予定していた場所はどこですか、次のア～エの中から選び、記号で答えなさい。

ア. 晴海 はるみ      イ. 豊洲 とよす      ウ. 台場 だいば      エ. 本牧 ほんもく

問2. 地方公共団体が定める法を何とといいますか、答えなさい。

問3. 地方公共団体における議員について、次の文ア～エの中から正しいものを1つ選び、記号で答えなさい。

- ア. 都道府県，市区町村議員は，20歳から立候補できる。
- イ. 都道府県，市区町村議員は，25歳から立候補できる。
- ウ. 都道府県知事は，20歳から立候補できる。
- エ. 都道府県知事は，25歳から立候補できる。

問4. 国会議員について、次の文ア～エの中から正しいものを1つ選び、記号で答えなさい。

- ア. 衆議院議員は，20歳から立候補できる。
- イ. 衆議院議員は，30歳から立候補できる。
- ウ. 参議院議員は，20歳から立候補できる。
- エ. 参議院議員は，30歳から立候補できる。

問5. 次の文章は、日本国憲法第11条です。次の（ X ）・（ Y ）にあてはまる言葉を答えなさい。

国民は、全ての（ X ）の享有をさまたげられない。この憲法が国民に保障する（ X ）は、侵すことのできない永久の（ Y ）として、現在および将来の国民にあたえられる。



